

REALIZA Y COMENTA EL SIGUIENTE MAPA HISTÓRICO:

TÍTULO:

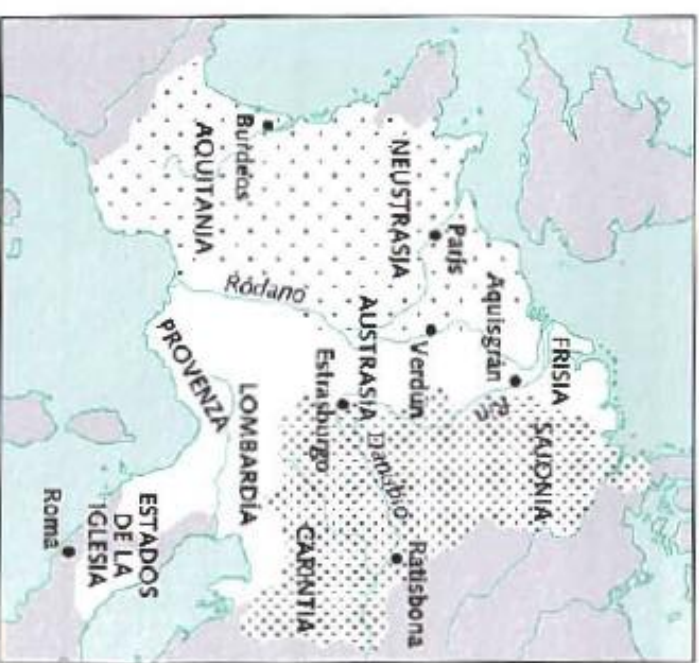
FECHA.



Colorea según la leyenda, rotula el nombre de los territorios y de las marcas fronterizas.

Sitúa en el mapa los siguientes conceptos: Imperio romano de oriente, imperio islámico, Imperio carolingio, reino franco, marca sajona, marca hispánica, reino de Italia, reinos anglosajones, sajones, eslavos, normandos, Estados Pontificios (Papado) Rin, Danubio, Mar Negro, mar Mediterráneo, océano Atlántico, Roma, León, Pamplona.

Completa el mapa según la leyenda y responde:



¿En qué año se firmó el Tratado de Verdún?




¿Qué se establecía en él?

.....

.....

.....

TRATADO DE VERDÚN (843)

	Reino de Carlos el Calvo
	Reino de Luis el Germánico
	Reino de Lotarino

