

# 2

EDUCACIÓN SECUNDARIA

## SCiencias Sociales

Geografía e Historia

M. Burgos, M.C. Muñoz-Delgado

ADAPTACIÓN CURRICULAR



Esta propuesta didáctica, perteneciente a la serie de Ciencias Sociales, responde a un proyecto pedagógico creado y desarrollado por Anaya Educación para la ESO.  
En su elaboración han participado:

**Autores:** Manuel Burgos Alonso, M.ª Concepción Muñoz Delgado, Marta Blanco y Mónica Aza

**Coordinación editorial:** Jesús Navas y Juan Doménech

**Edición:** José Luis Chamero y Salvador Vara

**Diseño de cubiertas e interiores:** Miguel Ángel Pacheco y Javier Serrano

**Tratamiento infográfico del diseño:** Javier Cuñillar y Patricia Gómez

**Equipo técnico:** Ángel Guerrero

**Corrección:** Isabel Gallego y Mercedes Pérez

**Ilustraciones:** Gracia Artigas, Arturo Asensio, Fernando Aznar, Paul Coulbois y Carlos Moreno

**Cartografía:** José M.ª Gil y Rosario Regaño

**Departamento gráfico:** Juan Carlos Quignon, Paz Franch, Miguel Díaz Rullo, Rafael Sombria y Miguel Ángel Castillejos

**Edición gráfica:** Estefanía de Régil

**Fotografías:** AGE Fotostock, Aisa, Album, Archivo Anaya (Calonge, N.; Cosano, P.; Escofet, J.M.; Leiva, A.; Lezama, D.; Marín, E.; Martín, J.; Ortega, A.; Padura, S.; Rivera Jove, V.; Ramón Ortega, P. Fototeca de España; Redondo, M.; Ruiz, J.B.; Ruiz Pastor, I.; Steel, M.; Valls, R.; Vázquez, A.; Villaboy, N.), Cerdón Press, Paisajes Españoles, Prisma

## Índice

<b>1</b>	Los imperios bizantino y carolingio .....	<b>4</b>
<b>2</b>	El islam y su expansión .....	<b>10</b>
<b>3</b>	La sociedad feudal .....	<b>16</b>
<b>4</b>	La península ibérica entre los siglos VIII y XI .....	<b>22</b>
<b>5</b>	Ciudad, burguesía y catedrales .....	<b>28</b>
<b>6</b>	La península ibérica entre los siglos XI y XV .....	<b>36</b>
<b>7</b>	La Edad Moderna. Los descubrimientos geográficos .....	<b>42</b>
<b>8</b>	La hegemonía española en el siglo XVI .....	<b>50</b>
<b>9</b>	El siglo XVII. Absolutismo y Barroco .....	<b>58</b>
<b>10</b>	La población. Las tensiones demográficas .....	<b>64</b>
<b>11</b>	Las sociedades actuales y sus diferencias .....	<b>72</b>
<b>12</b>	El poblamiento humano. Las ciudades .....	<b>80</b>
	Soluciones .....	<b>86</b>

# 1 Los imperios bizantino y carolingio

## 1 El fin del mundo antiguo

### 1.1 La ruptura de la unidad del imperio romano

Los romanos crearon un gran imperio en torno al mar Mediterráneo. Bajo el emperador Trajano (98-117), sus fronteras llegaban en Europa hasta las islas Británicas y los ríos Rin y Danubio; en Asia hasta el río Tigris; y en África hasta el desierto del Sáhara.

En el año 395, el emperador Teodosio dividió el imperio en dos partes, para defenderlo mejor de las invasiones de los pueblos germánicos: el **imperio romano de Occidente**, con capital en Roma; y el **imperio romano de Oriente**, con capital en Constantinopla.



### 1.2 Los imperios de Oriente y de Occidente

Desde su división, cada parte del imperio siguió una evolución diferente:

- El **imperio romano de Oriente**, conocido después como **imperio bizantino**, sobrevivió a las invasiones germánicas y se mantuvo hasta 1453.
- El **imperio romano de Occidente** desapareció en el año 476, cuando Odoacro, jefe de uno de los pueblos germánicos, depuso al último emperador romano, Rómulo Augústulo.

Este hecho representa para los historiadores el final del mundo antiguo y el inicio de la **Edad Media**, un nuevo periodo histórico que se extiende hasta 1453 (toma de Constantinopla por los turcos) o 1492 (descubrimiento de América).

A partir del año 476, en los territorios del imperio romano de Occidente se establecieron diversos **reinos germánicos**. Entre ellos destacaron el reino franco, en la Galia, y el reino visigodo, en Hispania.

## Tareas para progresar

### ▼ Comprender la realidad histórica

1 Calcula el tiempo que duraron los imperios romanos de Oriente y de Occidente, desde la división del emperador Teodosio hasta su desaparición:

.....  
.....

2 Escribe los nombres de las capitales del imperio romano de Occidente y del imperio bizantino o de Oriente.

.....  
.....

3 Contesta a las siguientes preguntas:

a) ¿Qué le ocurrió al imperio bizantino en 1453?

.....  
.....

b) ¿Qué originó la caída del imperio romano de Occidente?

.....  
.....

c) ¿Qué periodo histórico se extiende desde el año 476 hasta 1492?

.....  
.....

### ▼ Obtener información

4 La siguiente moneda muestra la imagen de Rómulo Augústulo. ¿Quién fue este personaje?



### ▼ Relacionar informaciones

5 Indica si las frases siguientes son verdaderas (V) o falsas (F):

a) El emperador Trajano dividió el imperio romano en dos partes.

b) El emperador Teodosio dividió el imperio romano en dos partes.

c) La capital del imperio romano de Occidente era Roma.

d) La capital del imperio romano de Occidente era Constantinopla.

e) El imperio romano de Oriente es conocido como imperio bizantino.

f) La Edad Media se inicia con la caída del imperio romano de Occidente.

g) La Edad Media se inicia con la caída del imperio romano de Oriente.

### ▼ Organizar la información

6 Completa este cuadro resumen:

FIN DEL MUNDO ANTIGUO	
El emperador Teodosio divide el imperio romano en:	
Imperio romano de .....	Imperio romano de .....
Capital .....	Capital .....
Fecha de su caída .....	Fecha de su caída .....

7 Completa las siguientes frases:

Con el final del mundo antiguo se inicia el periodo histórico de la Edad .....

Este periodo se extiende hasta ..... (toma de Constantinopla por los turcos) o ..... (descubrimiento de América).

# 2 El imperio bizantino

## 2.1 La evolución histórica

El imperio romano de Oriente logró sobrevivir a la caída de Roma. Con el tiempo, pasó a llamarse imperio bizantino. Esta denominación procede de Bizancio, una colonia griega situada en el mar Negro que fue reconstruida por Constantino en el año 330. La nueva ciudad era conocida como Constantinopla, la ciudad de Constantino, y fue la capital del imperio.

En sus inicios, el imperio bizantino comprendía los territorios de los Balcanes, Grecia, Asia Menor, Siria y Egipto. Pero desde entonces, su historia atravesó periodos de auge y de decadencia:

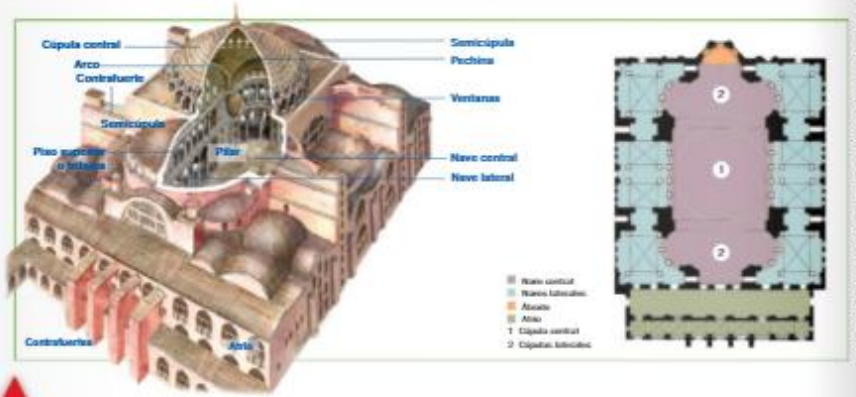
- En el **siglo VI**, durante el reinado de Justiniano I (527-565), el imperio alcanzó su mayor esplendor. Justiniano conquistó el norte de África, Sicilia, Italia y el sureste de Hispania.
- En el **siglo VII**, los musulmanes conquistaron Siria, Palestina y Egipto, y redujeron su territorio a Asia Menor, los Balcanes y algunas posesiones en Italia.
- Desde **mediados del siglo XI**, Bizancio entró en una profunda crisis, hasta que finalmente los turcos acabaron conquistando Constantinopla (1453) y pusieron fin al imperio.

## 2.2 El arte bizantino. La arquitectura

El arte bizantino tuvo una gran riqueza y expresó el poder de los emperadores y de la Iglesia. Sus manifestaciones principales fueron la arquitectura; los mosaicos, que decoraron el interior de las iglesias, y los iconos o imágenes sagradas, realizadas sobre tabla o metal.

La **arquitectura** utilizó **materiales pobres** como el ladrillo, recubierto a veces en el exterior con mármol y en el interior con ricos mosaicos. El **edificio principal** fue la **iglesia**, de planta rectangular y cubierta adintelada o de planta cuadrada, octogonal o de cruz griega y con cúpula. Los **ejemplos** más destacados son la basílica de Santa Sofía de Constantinopla, encargada por Justiniano, y la iglesia de San Vital, en Ravena; ambas son del siglo VI.

▶ Santa Sofía, iglesia encargada por Justiniano I en el siglo VI, tiene una nave central muy ancha, sobre la que se sitúa una gran cúpula sobre pechinas de 32 m de diámetro.



## Tareas para progresar

### ▼ Comprender la realidad histórica

- 8 Contesta a estas preguntas:
- a) ¿De dónde procede la denominación de imperio bizantino?
- b) ¿Con qué nombre se conocía la nueva ciudad reconstruida por el emperador Constantino?
- c) ¿En qué siglo alcanzó el imperio bizantino su mayor esplendor?

### ▼ Conocer manifestaciones artísticas

- 10 Con ayuda del texto y de la imagen de Santa Sofía, describe cómo era una iglesia bizantina.

### ▼ Organizar la información

- 11 Completa este cuadro resumen sobre el arte bizantino:

Manifestaciones principales	
Materiales utilizados en la arquitectura	
Principales edificios	

### ▼ Producir textos

- 9 En la siguiente imagen aparece representado Justiniano. Explica, con tus propias palabras y sin cometer faltas de ortografía, quién fue este personaje histórico.



- 12 Completa las siguientes frases:
- Durante el reinado de ..... el imperio bizantino alcanzó su mayor esplendor.
  - Los musulmanes redujeron el territorio a ..... los Balcanes y algunas posesiones en .....
  - Los ..... acabaron conquistando la ciudad de ..... y pusieron fin al imperio.

# 3 El imperio carolingio

## 3.1 La evolución histórica

En el año 751, Pipino el Breve implantó una nueva dinastía franca, que alcanzó su máximo esplendor con su hijo Carlomagno, de quien proviene el nombre del imperio.

**Carlomagno** (742-814) se propuso restablecer la unidad del antiguo imperio romano de Occidente. Con este fin conquistó el norte de Italia, el centro de Europa y el norte de Alemania.

Tras estas conquistas, Carlomagno fue proclamado **emperador** por el papa León III, en el año **800**. El imperio solo duró hasta el año 843, cuando el hijo y sucesor de Carlomagno, Luis el Piadoso, lo dividió entre sus hijos.

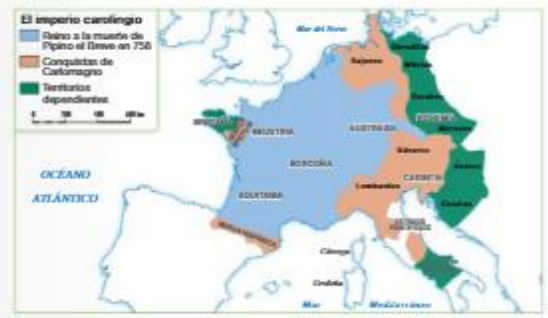
## 3.2 Las actividades económicas

Las **actividades agrarias** fueron predominantes. Se practicaban en extensos **latifundios**, donde se cultivaban, sobre todo, cereales, que eran la base de la alimentación. Para su explotación, los latifundios se dividían en dos partes:

- La **reserva señorial**, cuyos productos eran para el propietario.
  - Los **mansos**, o pequeñas parcelas trabajadas por campesinos, que no podían abandonar la tierra y debían pagar al dueño rentas y servicios.
- La **artesanía** se realizaba en los latifundios, donde se fabricaban los artículos necesarios para la vida: tejidos, herramientas, etc. El **comercio** se limitaba a los artículos de lujo demandados por los más ricos.

## 3.3 La sociedad carolingia

- La sociedad carolingia se organizaba en tres grupos sociales:
- Los **nobles** y los **altos cargos eclesiásticos** poseían la mayor parte de las tierras y desempeñaban los puestos principales del gobierno y la administración.
  - El **resto de las personas libres**: campesinos, artesanos y comerciantes.
  - Los **siervos**, descendientes de antiguos esclavos, que estaban sujetos a la tierra; es decir, no podían abandonarla sin permiso.



Los grupos sociales.

## Tareas para progresar

### ▼ Conocer elementos matemáticos

**13** Calcula los años que duró el imperio carolingio.  
.....

### ▼ Comprender la realidad histórica

**14** Contesta a estas preguntas:

a) ¿De dónde procede el nombre de imperio carolingio?  
.....


b) ¿Cuál era el objetivo de Carlomagno?  
.....

### ▼ Relacionar informaciones

- 15** Escribe V (verdadera) o F (falsa) en cada frase:
- a) En el imperio carolingio, las actividades agrarias eran predominantes.
  - b) La agricultura se realizaba en latifundios.
  - c) Los latifundios se dividían en tantas partes como propietarios tuviese.
  - d) La reserva señorial era una parte del latifundio.
  - e) Las tierras de los mansos eran trabajadas por campesinos.
  - f) Los tejidos y las herramientas eran proporcionados por el comercio.
  - g) Los siervos estaban sujetos a la tierra.
  - h) Los cereales no constituían la base de la alimentación.

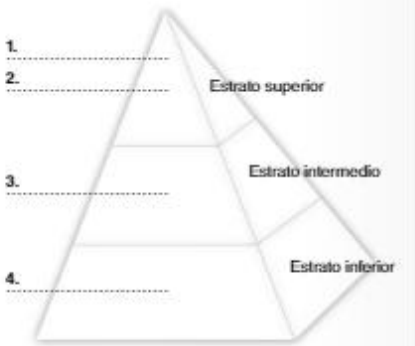
### ▼ Obtener información

**16** Ordena de forma cronológica, de más antiguo (A) a más reciente (C), los siguientes personajes históricos:



### ▼ Organizar la información

**17** En el gráfico siguiente, coloca cada grupo social en su nivel correspondiente: a) siervos; b) emperador; c) campesinos, artesanos y comerciantes; d) nobles y altos cargos eclesiásticos.



# 2 El islam y su expansión

## 1 El islam. Inicios y expansión

### 1.1 Mahoma y la religión islámica

El **islam** nació en la península de Arabia, entre el mar Rojo y el golfo Pérsico. **Mahoma** (570-632), el profeta del islam, recibió la revelación de Dios y comenzó a predicar una nueva religión, el islam, que significa sumisión a la voluntad de un dios único, Alá.

Tras la muerte de Mahoma, la religión islámica fue recogida en el **Corán** o libro sagrado de los musulmanes. Sus practicantes se llaman **musulmanes** y deben cumplir cinco **preceptos religiosos**: la profesión de fe; la oración cinco veces al día mirando a La Meca y la oración comunitaria los viernes en la mezquita; la limosna a los necesitados; el ayuno en el mes de Ramadán; y la peregrinación a La Meca, al menos una vez en la vida.

### 1.2 La expansión del islam

Mahoma comenzó a predicar su doctrina en La Meca, pero tuvo que huir y trasladarse a la ciudad de Yatrib en el año 622 (**hégira**). Desde entonces, Yatrib adoptó el nombre de Medina, y el año 622 se tomó como punto de partida del calendario musulmán. Tras la muerte de Mahoma, en 632, los musulmanes formaron un gran imperio, consolidado en tres **etapas**:

- El **califato ortodoxo** (632-661). Los sucesores de Mahoma se eligieron entre sus familiares, adoptaron el título de califa y residieron en Medina. El islam se extendió por Siria, Palestina, Egipto, Mesopotamia y Persia.
- El **califato omeya** (661-750). Se implantó la sucesión hereditaria en la familia de los omeyas, que trasladaron la capital a **Damasco**. El imperio árabe alcanzó su máxima extensión y se extendió hacia el oeste.

- El **califato abasi** (750-1055). La dinastía abasi destruyó a los omeyas y trasladó la capital a **Bagdad**. La expansión musulmana se detuvo, y se sucedieron las luchas internas. En 1055, los **turcos conquistaron el califato**, aunque los reyes abasies se mantuvieron bajo dominio turco hasta 1258.



© DUNO AUSA B.A. Geografía e Historia 2º ESO. www.losoperarios.com

## Tareas para progresar

### ▼ Usar el vocabulario

- 1 Define estos conceptos históricos: *islam*, *Corán*, *musulmanes*.

.....

.....

.....

.....

### ▼ Comprender la realidad histórica

- 2 Escribe los cinco preceptos religiosos de los musulmanes.

.....

.....

.....

.....

.....

### ▼ Relacionar informaciones

- 3 Indica si las siguientes frases son verdaderas (V) o falsas (F).

- a) El islam nació en la península de Arabia.
- b) Mahoma huyó de La Meca a Medina en el año 632.
- c) El año 622 se tomó como punto de partida del calendario islámico.
- d) La expansión del imperio musulmán se hizo en cinco etapas.
- e) Los turcos compartieron el Califato en 1055.

- 4 Relaciona cada etapa con su capital.

- |                      |            |
|----------------------|------------|
| A. Califato ortodoxo | 1. Damasco |
| B. Califato omeya    | 2. Bagdad  |
| C. Califato abasi    | 3. Medina  |

### ▼ Obtener información

- 5 Escribe las fechas en que sucedieron los siguientes acontecimientos:

- a) Nacimiento de Mahoma: .....
- b) Hégira: .....
- c) Conquista del califato por los turcos: .....
- d) Comienzo del califato omeya: .....
- e) Comienzo del califato abasi: .....
- f) Comienzo del califato ortodoxo: .....

- 6 Con ayuda del mapa de la página anterior, indica el período en el que se conquistaron los siguientes territorios: Siria, valle del Indo, Egipto, Creta y Sicilia, Mesopotamia.



.....

.....

.....

.....

.....

### ▼ Organizar la información

- 7 Completa los espacios en blanco:

- Las etapas del imperio musulmán fueron tres: ..... y .....
- En la primera, a los sucesores de ..... se los elegía entre sus familiares y amigos.
- En la segunda, gobernó la dinastía de los .....
- En la tercera gobernó la dinastía .....

© DUNO AUSA B.A. Geografía e Historia 2º ESO. www.losoperarios.com

# 2 El gobierno y la economía islámicas

## 2.1 El gobierno y la administración del territorio

El gobierno del imperio estaba en manos del **califa**, que era la máxima autoridad política y religiosa. Para gobernar, se ayudaba del visir o primer ministro, una persona de confianza que dirigía a los demás funcionarios de la administración.

La **administración del territorio** conquistado se organizó en **provincias** (koras), que estaban bajo la autoridad de un gobernador o vali. Además, en todas había cadíes o jueces, que administraban justicia.

## 2.2 Las actividades económicas

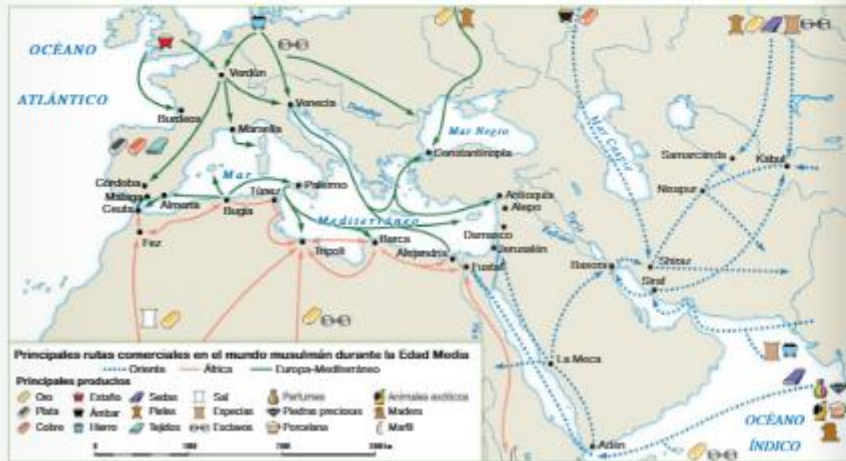
La **agricultura** fue la base de la economía musulmana. En la parte oriental del imperio, cultivaban trigo, cebada, arroz, algodón y caña de azúcar; en la parte occidental introdujeron productos agrícolas orientales, como la caña de azúcar, el arroz, el algodón, los cítricos, la morera, etcétera. Además, mejoraron los antiguos sistemas de riego con la introducción de norias y canales.

La **artesanía** se realizaba en pequeños talleres, que también vendían los productos que fabricaban: tejidos, alfombras, tapices, artículos de cuero, cerámica, metal, perfumes y papel.

El **comercio** se benefició de la posición geográfica del imperio entre Europa y Oriente. Los productos se transportaban por tierra mediante grandes caravanas de camellos, y por mar utilizando barcos de vela.



Los símbolos del poder califal eran el sello del Profeta, el cetro de extremo curvo, el manto y la lanza.



## Tareas para progresar

### ▼ Usar el vocabulario

8 Define brevemente, y utilizando los términos adecuados, los siguientes conceptos: **Califa**, **visir**, **Koras** y **cadíes**.

.....

.....

.....

### ▼ Obtener información

11 Con la ayuda del mapa de la página anterior, enumera los principales productos con los que comerciaban los musulmanes.

.....

.....

.....

### ▼ Producir textos

9 Observa la siguiente imagen y, a continuación, redacta un texto breve describiendo para qué se utilizaba.



.....

.....

.....

### ▼ Interpretar el lenguaje de la imagen

12 Basándote en la imagen de la página anterior, escribe cuáles eran los símbolos del poder califal.

.....

.....

.....

### ▼ Organizar la información

13 Completa este cuadro resumen:

Productos agrícolas introducidos por los musulmanes en Occidente	.....
Artículos artesanos	.....
Principales productos con los que se comerciaba	.....

### 3 El original arte musulmán

#### 3.1 Arquitectura y decoración

La **arquitectura** empleó **materiales** pobres, como el ladrillo, el yeso y la madera; y usó columnas y pilares como **soportes**, **arcos de herradura**, que tienen más de media circunferencia, y **cubiertas** adinteladas y abovedadas. La **decoración** exterior de los edificios es muy sobria, pero los interiores se recubrían con mármoles, alicatados y planchas de yeso y madera. Sus tres motivos principales fueron vegetales estilizados (ataurique), figuras geométricas entrelazadas (laceria) e inscripciones con versículos del Corán (epigrafía).




Elementos decorativos.

#### 3.2 La mezquita musulmana

La **mezquita** es el edificio principal de los musulmanes. Su estructura se basa en la casa de Mahoma, en Medina, y consta de dos partes:

- El **patio** es un espacio abierto, rodeado por un pórtico. En él se sitúan una fuente, donde los fieles se lavan y purifican antes de orar, y una torre o alminar desde la cual el almuedano llama a la oración.
- La **sala de oración** es un espacio cubierto, dividido en naves por soportes y arcos. Uno de sus muros, la **qubla**, se orienta hacia La Meca y contiene en el centro el mihrab, un nicho vacío que alberga el Corán.



Mezquita de Kairuán.

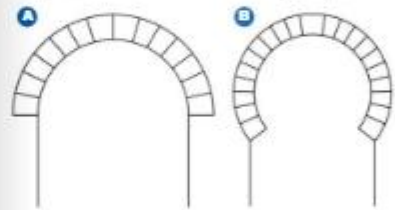
### Tareas para progresar

#### ▼ Conocer materiales y técnicas

14 ¿Qué materiales utilizó la arquitectura musulmana?  
 .....  
 .....  
 .....

#### ▼ Conocer manifestaciones artísticas

15 De las siguientes imágenes, indica cuál se corresponde con un arco de herradura y por qué.



.....  
 .....  
 .....

#### ▼ Relacionar informaciones

- 16 Escribe V (verdadera) o F (falsa) en cada frase:
- a) La laceria son figuras geométricas entrelazadas.
  - b) La decoración interior de los edificios era muy sobria.
  - c) La mezquita es el edificio principal de los musulmanes.
  - d) La estructura de la mezquita se basa en la casa de Mahoma en Medina.

#### ▼ Organizar la información

17 Completa este cuadro resumen sobre la arquitectura musulmana.

Materiales	..... .....
Soportes	..... .....
Arcos	..... .....
Cubiertas	..... .....
Decoración exterior	..... .....
Decoración interior	..... .....

18 Completa los espacios en blanco de las siguientes frases:

- a) El patio de la mezquita está rodeado por un .....
- b) En el patio se sitúan una ....., donde los fieles se lavan y purifican antes de orar, y una torre o .....
- c) La ..... es un espacio cubierto. Uno de sus muros, la ....., se orienta hacia La Meca y contiene en el centro el ....., un nicho vacío que alberga el Corán.





# La sociedad y las relaciones personales

## 2.1 La sociedad estamental

La sociedad feudal se dividía en tres **estamentos** o grupos sociales a los que se pertenecía por nacimiento, excepto en el caso del clero. Cada estamento desempeñaba una función en la sociedad.

- La **nobleza** defendía a la sociedad.
- El **clero** oraba por la salvación de la humanidad.
- Los **trabajadores**, en su mayoría campesinos, trabajaban para mantener a los otros dos grupos junto a artesanos y comerciantes.

La nobleza y el clero eran estamentos privilegiados: no trabajaban, no pagaban impuestos, gozaban de leyes especiales y ocupaban en exclusiva ciertos cargos. Los trabajadores carecían de privilegios.

## 2.2 Las relaciones de dependencia

En época feudal, todas las personas estaban unidas entre sí por lazos de dependencia personal. Pero estas relaciones eran distintas, según pertenecieran a uno u otro estamento.

- Las **relaciones feudo-vasalláticas** eran pactos que se establecían entre el rey y los grandes nobles o eclesiásticos y entre estos y otros nobles de menor rango. Eran pactos de alianza militar a cambio de concesiones económicas, que incluían dos elementos: el vasallaje y el feudo.
  - El **vasallaje** era el acto por el cual un hombre se ponía bajo la dependencia de otro y se convertía en su vasallo.
  - El **feudo** era la concesión realizada por el señor a su vasallo, generalmente una gran concesión de tierra.

Al principio, estos pactos acababan con la muerte de una de las partes; pero, con el tiempo, se hicieron hereditarios.

- Las **relaciones señoriales** se establecían entre los campesinos y los señores. Los campesinos recibían protección del señor. A cambio, el señor se adueñaba de sus tierras y tenía derechos sobre ellos, como dictar órdenes, cobrar impuestos y administrar justicia.



Los estamentos.

Señores y campesinos.

Las **relaciones señoriales** regulaban los obligaciones entre señores y campesinos, fueron estos libres (vellanos) o siervos.

El **señor** les daba protección, justicia y permiso para trabajar la tierra.

A cambio, el **campesino** estaba obligado a trabajar la reserva señorial, entregarle una parte de su cosecha y pagar los llamados impuestos señoriales.



## Tareas para progresar

### Usar el vocabulario

- 8 Define brevemente estos términos: **estamentos**, **relaciones feudo-vasalláticas** y **relaciones señoriales**.

.....

.....

.....

.....

.....

.....

### Comprender la realidad histórica

- 9 Escribe los nombres de los estamentos en los que se dividía la sociedad feudal.

.....

.....

- 10 ¿Cuáles eran los estamentos privilegiados y qué privilegios tenían?

.....

.....

### Relacionar informaciones

- 11 Indica las frases verdaderas (V) y las falsas (F):

- a) En época feudal todas las personas estaban unidas por lazos de dependencia.
- b) Entre el rey y los nobles no existía ninguna relación de vasallaje.
- c) Las relaciones señoriales se establecían entre campesinos.

### Interpretar el lenguaje de la imagen

- 12 Con ayuda de la ilustración correspondiente, indica qué le daba el señor al vasallo, y este al señor en el acto de vasallaje.

El señor le da al vasallo	El vasallo le da al señor
.....	.....
.....	.....
.....	.....
.....	.....
.....	.....
.....	.....

### Producir textos

- 13 Explica, con tus propias palabras y con ayuda del texto y la ilustración, en qué consistían las relaciones entre los señores y los campesinos.

.....

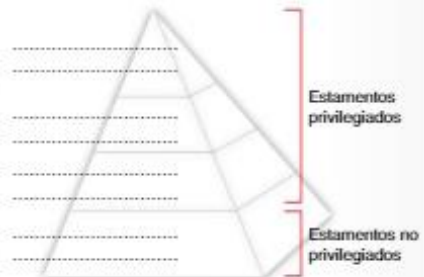
.....

.....

.....

### Organizar la información

- 14 Coloca cada grupo social en su lugar correspondiente: alto clero, bajo clero, pequeña nobleza, rey, siervos, alta nobleza y campesinos.



# 3 El arte románico

El **románico** fue el estilo artístico propio del feudalismo, que se desarrolló en el siglo XI. Se le considera el primer estilo medieval internacional, pues sus rasgos son comunes en toda Europa.

## 3.1 La arquitectura románica

Las **características** de la arquitectura románica son: uso de la **piedra**; muros gruesos reforzados con contrafuertes exteriores; columnas y pilares cruciformes; **arcos de medio punto**; naves cubiertas con **bóveda de cañón** o con **bóveda de arista**; pocas ventanas, e interiores oscuros.

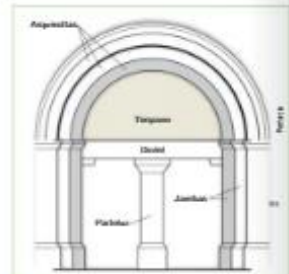
La **iglesia** fue el edificio principal. Solían tener planta de cruz latina, naves separadas por arquerías, nave transversal y cabecera con varios ábsides. Las de **peregrinación** tenían, además, una tribuna o segundo piso sobre las naves laterales para acoger a más fieles, y una girola o nave semicircular que rodeaba el altar mayor y permitía a los peregrinos transitar por la iglesia.

## 3.2 La escultura y la pintura románicas


Las **esculturas** y **pinturas** románicas ornamentaban las iglesias y cumplían una **función didáctica**: enseñar la doctrina cristiana al pueblo a través de imágenes. Las figuras son rígidas y expresivas.

Los **temas** representados son, sobre todo, escenas de la Biblia y de la vida de Cristo. También sobre el fin del mundo, como el Juicio Final presidido por el Pantocrátor o Todopoderoso.

- La **escultura aplicada** a la arquitectura se situaba en las portadas de entrada y en los capiteles de las iglesias y los claustros. La **escultura exenta** se realizaba en madera policromada o en marfil, y solía representar a Cristo crucificado y a la Virgen.
- La **pintura** se realizaba sobre los muros interiores de las iglesias o sobre tablas. Se caracteriza por el empleo de un grueso dibujo negro, y por el uso de colores planos y uniformes, con predominio del azul y del rojo.



▶ La portada románica.



▶ Santa Fe de Conques.



▶ Cristo bendiciendo entre santos, pintura románica de la catedral de Arezzo, en Italia.

## Tareas para progresar

### ▼ Comprender la realidad histórica

- 15 Contesta a estas preguntas:
- ¿Entre qué siglos se desarrolló el estilo románico?
  - ¿Por qué se considera el primer estilo medieval internacional?

### ▼ Comprender técnicas y recursos expresivos

- 16 Coloca cada una de estas características en su lugar correspondiente: a) rígidas y expresivas; b) Biblia; c) función didáctica; d) Juicio Final.

Figuras	Temas

### ▼ Relacionar informaciones

- 17 Escribe V (verdadera) o F (falsa) en cada frase:
- La arquitectura románica usa la piedra como material principal.
  - Los edificios tienen muros delgados y no necesitan refuerzos externos.
  - El edificio principal románico es la iglesia.
  - La girola es un piso que sirve para acoger a más fieles en las iglesias.
  - Las esculturas y las pinturas románicas cumplían una función didáctica.
  - La pintura se realizaba sobre los muros interiores de las iglesias o sobre tablas.

### ▼ Producir textos

- 18 A partir de las ilustraciones inferiores y del texto, explica qué sistemas de cubierta de naves se emplearon en la arquitectura románica.



.....

.....

.....

.....

.....

### ▼ Organizar la información

- 19 Completa los siguientes cuadros resumen:

Arquitectura románica			
MATERIAL	SOPORTES	CUBIERTAS	REFUERZO EXTERNO
-	-	-	-

Escultura y pintura románicas		
ESCULTURA APLICADA	ESCULTURA EXENTA	PINTURA
Se localiza en:	Representa a:	Se caracteriza por:
-	-	-



## 2 Los núcleos cristianos de resistencia (722-1035)

### 2.1 El tiempo y el espacio (722-1035)

En las áreas montañosas peninsulares que escaparon al dominio musulmán se organizaron, a partir del siglo VIII, varios núcleos de resistencia cristiana.

- En la **cordillera Cantábrica**, a principios del siglo VIII se formó el **reino de Asturias**, con capital en Oviedo, que se fue ampliando hasta el Duero. En el año 914, Ordoño II trasladó la capital a León, originándose así el **reino de León**. Dentro de este, el condado de Castilla se convirtió, con el tiempo, en un reino independiente (1035) formando el **reino de Castilla y León** tras la anexión del territorio leonés.
- En los **Pirineos** se formaron varios núcleos de resistencia frente a los musulmanes, que dieron lugar a los **reinos de Pamplona, Aragón y los condados catalanes**, los cuales sufrieron las presiones de los francos por el norte y de los musulmanes por el sur.



► Los reinos cristianos a principios del siglo X.

### 2.2 La organización de los núcleos cristianos

El **poder** en los núcleos cristianos estuvo en manos de reyes, o de condes en el caso catalán, que concentraron todo el poder.

La **economía** se basó en las actividades agrarias: ganadería en las áreas montañosas y agricultura en las más llanas. Las actividades urbanas, como la artesanía y el comercio, fueron escasas, debido al tamaño reducido de las ciudades.

La **sociedad** contó con numerosos campesinos propietarios, que se instalaron en las tierras conquistadas a los musulmanes. Junto a ellos existían grupos de poderosos, formados por nobles y altos cargos de la Iglesia.

## Tareas para progresar

### ▼ Localizar información en el espacio

- 8 Escribe los nombres de los diferentes núcleos de resistencia cristianos.



.....

.....

.....

### ▼ Comprender la realidad histórica

- 9 Contesta a las siguientes preguntas:

a) ¿En qué zonas de la Península surgieron los primeros núcleos cristianos de resistencia?

.....

.....

a) ¿Cuántos núcleos de resistencia se formaron?

.....

### ▼ Relacionar informaciones

- 10 Escribe verdadero (V) o falso (F) junto a cada frase:

a) El poder en los núcleos cristianos estuvo en manos de reyes.

b) La economía de los reinos cristianos se basó, sobre todo, en las actividades urbanas.

c) La sociedad contó con numerosos campesinos propietarios.

### ▼ Producir textos

- 11 Con ayuda de la ilustración inferior, redacta un texto breve describiendo la vida de los campesinos peninsulares de la época. Pon atención especial a la ropa (1), la vivienda (2) y las tareas agrarias (3).



.....

.....

.....

### ▼ Organizar la información

- 12 Completa los espacios en blanco de esta frase:

La ..... de los núcleos cristianos se basó en las actividades agrarias: ..... en las áreas montañosas y ..... en las zonas más llanas. Las actividades urbanas, como la ..... y el ....., fueron escasas.

### 3 El legado artístico

#### 3.1 El arte califal


Las manifestaciones artísticas más importantes de la época califal fueron la mezquita de Córdoba y el palacio de Medina Azahara.

- La **mezquita de Córdoba** se construyó en varias fases (siglos VIII-X). El edificio lo inició Abderramán I y lo ampliaron Abderramán II, Al Haken II y Almanzor, a medida que crecía la población. La sala de oración consta de varias naves, separadas por arquerías dobles (arcos de herradura y semicirculares) que sostienen un techo adintelado.
- El **palacio de Medina Azahara** formaba parte de una ciudad-palacio construida por Abderramán III en el siglo X.

#### 3.2 El arte románico

El románico fue la principal manifestación artística en los núcleos cristianos.

La **arquitectura** se desarrolló en el foco catalán (San Clemente y Santa María de Tahull en Lleida) y a lo largo del Camino de Santiago (San Isidoro de León y catedral de Santiago de Compostela). La **escultura** y la **pintura** se situaron en las portadas y en el interior de las iglesias.




Mezquita de Córdoba.



San Martín de Frómista.

San Clemente de Tahull.

© BRUNO AUGUÀ, S.A. - Despliega e informa 27 890. Imagen: Fotogrametría/Alamy



San Clemente de Tahull.



Lo superposición de arcos.

Bóveda califal de nervios.

© BRUNO AUGUÀ, S.A. - Despliega e informa 27 890. Imagen: Fotogrametría/Alamy

### Tareas para progresar

#### Comprender la realidad histórica

- 13** Contesta a estas preguntas:
- a) ¿Cuáles fueron las dos manifestaciones artísticas más importantes del arte califal?
- .....
- .....
- b) ¿Entre qué siglos se construyó la mezquita de Córdoba?
- .....

#### Comprender manifestaciones artísticas

- 14** Describe cómo es la bóveda califal de nervios que muestra la ilustración de la página anterior.
- .....
- .....
- .....
- .....

#### Relacionar informaciones

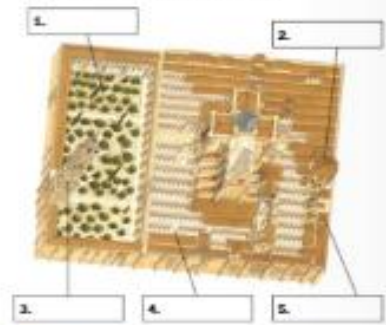
- 15** Escribe verdadero (V) o falso (F) en cada frase:
- a) La mezquita de Córdoba se construyó en varias fases.
- b) El palacio de Medina Azahara fue mandado construir por Abderramán I.

#### Ordenar información temporal

- 16** Ordena cronológicamente, desde el más antiguo hasta el más reciente, los responsables de las ampliaciones de la mezquita de Córdoba: Almanzor, Abderramán I, Al Haken II y Abderramán II.
- .....
- .....
- .....

#### Obtener información

- 17** Completa los recuadros con los nombres de las partes de la mezquita de Córdoba.



#### Producir textos

- 18** Describe brevemente esta pintura románica.



.....

.....

.....

.....

# 5 Ciudad, burguesía y catedrales

## 1 La expansión agraria y sus consecuencias

### 1.1 Las innovaciones técnicas

Entre los siglos XI y XIII, la economía europea experimentó un fuerte crecimiento, debido, sobre todo, al progreso de las actividades agrarias y a la difusión en los campos europeos del arado de vertedera y de la rotación trienal.

- El **arado de vertedera** permitía remover y airear mejor la tierra. Era más pesado que el arado romano, de ahí que necesitara ruedas y que, para arrastrarlo, comenzaran a utilizarse caballos en lugar de bueyes.
- La **rotación trienal** consistía en dividir el terreno cultivado en tres partes u hojas. En cada una rotaban cada año cereales, avena o leguminosas y barbecho, por lo que se dejaba sin cultivar solo un tercio de la tierra.

Otras innovaciones técnicas fueron la **collera** y la **herradura metálica**. También mejoraron los instrumentos agrarios, gracias al uso del hierro; el empleo de la **guadaña**, que facilitó la siega de los cereales; y el perfeccionamiento del molino de agua, más eficiente que el de viento.

### 1.2 Consecuencias de la expansión agraria

Las consecuencias de la expansión agraria fueron:

- El aumento de los rendimientos agrícolas y de la producción.
- La mejora de la alimentación y de las condiciones de vida de la población.
- El incremento del espacio cultivado, procedente de la roturación del bosque, de la desecación de marismas y zonas pantanosas, de las tierras ganadas al mar y de la colonización de nuevos territorios.

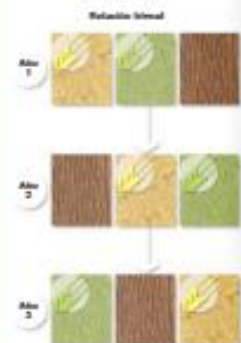
Todo ello provocó el crecimiento de la población europea, que pasó de 36 a 80 millones de personas entre los siglos XI y XIV; el renacimiento del comercio y la expansión de las ciudades.



### ROTACIÓN DE CULTIVOS



En la **rotación bienal**, la tierra se divide en dos hojas en las que se suceden el cultivo de trigo u otro cereal y el barbecho.



En la **rotación trienal**, la tierra se divide en tres hojas en las que se suceden los cultivos de trigo, avena o leguminosas y el barbecho.

- ▶ El arado romano (A) era de madera y se manejaba con bueyes que tiraban de él mediante un yugo o pieza de madera a la que se sujetaba el arado. El **arado de vertedera (B)** incorporó esta pieza de hierro que permitía remover y airear mejor la tierra y trabajar suelos duros. Se manejaba con caballos, que tiraban de él mediante la **collera**, un collar de cuero milenario de paja, que evitaba dañar a los animales.

## Tareas para progresar

### ▼ Usar el vocabulario

- 1 Define los términos **arado de vertedera** y **rotación trienal**.

- 2 Completa la definición con el término correcto:

a) Dividir el terreno cultivado en tres partes:

b) Arado que permite remover y airear mejor la tierra:

### ▼ Comprender la realidad histórica

- 3 ¿Por qué aumentó la producción agrícola a partir del siglo XI?

- 4 Escribe los nombres de algunos instrumentos agrícolas que facilitaron el desarrollo de la agricultura europea entre los siglos XI y XIII.



### ▼ Resolver problemas

- 5 Calcula en cuánto aumentó la población europea entre los siglos XI y XV.

### ▼ Relacionar informaciones

- 6 Indica si las siguientes frases son verdaderas (V) o falsas (F).

- a) El aumento de la producción fue consecuencia de la expansión agraria.
- b) Al aumentar las actividades agrarias empeoró la alimentación.
- c) Con el progreso agrario aumentó el espacio cultivado.
- d) Las actividades agrarias favorecieron el renacimiento del comercio.

- 7 Relaciona cada término de la columna izquierda con uno de la columna derecha:

- |                           |                      |
|---------------------------|----------------------|
| A. Instrumentos de hierro | 1. Guadaña           |
| B. Molino de agua         | 2. Mayor resistencia |
| C. Mejora la siega        | 3. Más eficiente     |

### ▼ Producir textos

- 8 A partir de la imagen de la página anterior, describe cómo es un arado de vertedera.

### ▼ Organizar la información

- 9 Completa el texto siguiente:

Las consecuencias del progreso de las actividades agrarias fueron....., la mejora de la..... y de las..... de la población, y el aumento del.....

## 2 El renacimiento de las ciudades

### 2.1 Las causas del renacimiento urbano

A partir del siglo XI, renació la vida urbana en Europa.

La **causa** principal fue el aumento de la producción agraria, que permitió a los campesinos obtener más productos y vender los sobrantes en mercados. Con ello, parte del campesinado pudo dedicarse a otras tareas, como la artesanía y el comercio.

La artesanía y el comercio se concentraron en las **ciudades**, favoreciendo su revitalización y crecimiento. En unos casos, resurgieron las antiguas ciudades romanas; y en otros casos, surgieron nuevas ciudades a partir de mercados. En torno a estos se crearon barrios de artesanos y comerciantes, denominados **burgos**, que acabaron rodeándose de una muralla y convirtiéndose en ciudades.

La palabra **burgo** terminó usándose para designar a toda la ciudad, y sus habitantes recibieron el nombre de **burgueses**.

### 2.2 El gobierno de la ciudad

Los habitantes de las ciudades crearon asociaciones, llamadas **comunas**, que lucharon por conseguir de los señores o del rey una **carta comunal** o fuero, es decir, un documento que garantizaba sus derechos y les permitía formar un gobierno autónomo.

El gobierno de la ciudad recayó entonces en un **consejo comunal**, elegido por los ciudadanos, que se ocupaba de la recaudación de los impuestos y del aprovisionamiento y defensa de la ciudad. El consejo delegaba el poder ejecutivo en magistrados, denominados **alcaldes** o **burgomaestres**, que se reunían en un edificio llamado **ayuntamiento**. Con el tiempo, el gobierno municipal fue acaparado por las familias más ricas, que constituyeron un **patriciado urbano**.



Las ciudades desempeñaron numerosas funciones en la Edad Media. Hábitat urbano característico de una ciudad italiana del siglo XV. Alegoría del Buen Gobierno, de Antonio Lorenzetti.

## Tareas para progresar

### ▼ Usar el vocabulario

10 Define los términos **burgo** y **burgués**.

.....

.....

.....

.....

### ▼ Comprender la realidad histórica

11 ¿Cuál fue la causa principal del resurgir de las ciudades y de la vida urbana a partir del siglo XI?

.....

.....

.....

12 ¿Qué actividades económicas favorecieron la revitalización y el crecimiento de las ciudades a partir del siglo XI?

.....

.....

.....

### ▼ Relacionar informaciones

13 Contesta a estas cuestiones:

a) ¿Qué documento garantizaba los derechos de los habitantes de las ciudades?

.....

.....

b) ¿Qué institución ciudadana se ocupaba del gobierno de la ciudad?

.....

.....

c) ¿Qué nombre reciben los magistrados que ejercían el poder ejecutivo?

.....

.....

d) ¿Cómo se llamaba el edificio donde se reunían los magistrados anteriores?

.....

.....

e) ¿Quién acaparó el gobierno municipal con el tiempo?

.....

.....

### ▼ Producir textos

14 Redacta un texto explicando la siguiente ilustración. Ten en cuenta que el documento que aparece es un fuero.



.....

.....

.....

### ▼ Obtener información

15 Escribe verdadero (V) o falso (F) en cada frase:

- a) Todas las ciudades medievales surgieron a partir de mercados.
- b) La palabra **burgo** terminó usándose para designar a toda la ciudad.
- c) Los vecinos de las ciudades formaron asociaciones, llamadas **municipios**.

### ▼ Organizar la información

16 Completa el siguiente cuadro resumen sobre las ciudades medievales:

Actividades económicas	Tipos de ciudades	Gobierno de la ciudad



### 3 Las actividades económicas

#### ES1 Los artesanos y su organización

En las ciudades se asentaban numerosos artesanos. Trabajaban en pequeños talleres que se agrupaban en una calle a la que daban nombre (plateros, tejedores, panaderos, etc.).

Los artesanos del mismo oficio se organizaban en asociaciones, llamadas gremios. Sus objetivos eran dos: controlar la producción para evitar la competencia; y proteger a sus miembros, pagando cuotas para ayudar a enfermos, viudas y huérfanos.

La organización interna de cada gremio diferenciaba tres categorías: el maestro o dueño del taller; los oficiales, que trabajaban a sueldo para el maestro, y los aprendices, que trabajaban sin sueldo para aprender el oficio.

#### ES2 El auge del comercio

El incremento de la producción agraria y artesanal provocó un importante auge del comercio, cuyos centros fueron las ciudades.

- El comercio local se realizaba en las viviendas-taller de los artesanos y en los mercados urbanos semanales, adonde acudían los campesinos de la comarca.
- El comercio a larga distancia se llevaba a cabo en las ferias, o reuniones de comerciantes celebradas una vez al año en algunas ciudades donde se vendían artículos procedentes de lugares lejanos, y en las ciudades con grandes puertos (Venecia, Marsella, Barcelona, etc.).



▶ Las viviendas-taller de los artesanos se organizaban en dos pisos. En la planta baja estaban el taller y la tienda abierta a la calle; el hogar o cocina; la despensa; un patio, y a veces, un corral y un huerto. En la primera planta se situaban los dormitorios.

© DIZIÑO AMOYA, S.A. - Desplazada a España S.L. - BDO, Madrid - Fotostudio BDO, Madrid

### Tareas para progresar

#### ▼ Usar el vocabulario

17 Escribe el concepto al que se refieren estas definiciones:

a) Asociaciones de artesanos de un mismo oficio:

.....

b) Reuniones de comerciantes celebradas una vez al año en algunas ciudades:

.....

#### ▼ Comprender la realidad histórica

18 ¿A qué se debió el auge del comercio?

.....

.....

#### ▼ Relacionar informaciones

19 Escribe la categoría gremial en su lugar correspondiente:

Dueño del taller	Trabaja a sueldo	Aprende el oficio

#### ▼ Obtener información

20 Estudia el mapa y responde:

a) ¿Sobre qué tipo de comercio nos informa?

.....

.....

b) Nombra algunas ciudades europeas donde se celebraban ferias.

.....

.....

c) Cita algunos productos con los que se comerciaba.

.....

#### ▼ Producir textos

21 Describe, a partir de la ilustración de la página anterior, la vivienda-taller de un artesano.

.....

.....

.....

.....

#### ▼ Organizar la información

22 Completa estas frases:

a) Los artesanos trabajan en pequeños ..... en una misma calle. Los del mismo oficio se organizaban en asociaciones llamadas .....

b) El comercio local se realizaba en las ..... de los artesanos y en los ..... El comercio a larga distancia se llevaba a cabo en las ..... y en las ciudades con .....



## 4 El arte gótico

El arte gótico se desarrolló desde mediados del siglo XII hasta el siglo XV. Debe su nombre a que en el Renacimiento se pensó que había sido traído a Europa por los godos. Pero, en realidad, surgió en el norte de Francia y desde allí se difundió por las ciudades del resto de Europa.

### 4.1 La arquitectura gótica

Las características de las construcciones góticas son: el uso de la piedra como material y de los pilares como soportes; los arcos apuntados u ojivales, y la cubierta con bóveda de crucería. Todo ello permitió realizar edificios altos, con grandes ventanales, que se decoraban con vidrieras.

El edificio religioso principal fue la catedral. Suele tener planta de cruz latina, con tres o cinco naves, transepto, cabecera con girola y numerosas capillas. El interior tiene tres pisos y el exterior una fachada enmarcada por dos torres.

Los edificios civiles más destacados son lonjas comerciales, ayuntamientos y palacios nobiliarios o burgueses.



### 4.2 La escultura y la pintura

La escultura y la pintura góticas buscaban la belleza, el realismo y el movimiento. Los temas continuaron siendo religiosos.

- La **escultura** se situó, sobre todo, en las portadas y capiteles de las catedrales. En la escultura exenta, Cristo crucificado se representa clavado a la cruz con tres clavos, intentando transmitir sufrimiento. La Virgen sujeta al niño en un brazo y muestra una actitud maternal hacia él, buscando transmitir ternura.
- La **pintura** se realizó en tablas de madera, que podían formar grandes conjuntos situados detrás del altar, denominados retablos. Además, se ilustraron libros con **miniaturas**.

## Tareas para progresar

### ▼ Usar el vocabulario

23 Define estos conceptos: **arte gótico** y **retablo**.

.....

.....

.....

24 Busca en un diccionario el término **miniatura**, y anota su significado.

.....

.....

### ▼ Comprender la realidad histórica

25 Contesta a estas preguntas:

a) ¿Entre qué siglos se desarrolló el estilo gótico?

.....

b) ¿A qué error debe su nombre?

.....

### ▼ Relacionar informaciones

26 Indica si las siguientes frases son verdaderas (V) o falsas (F):

a) El principal edificio religioso gótico fue la catedral.

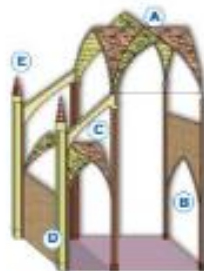
b) Las catedrales eran pequeñas, de una nave y sin girola.

c) En el románico se construyeron lonjas comerciales y palacios nobiliarios.

d) Las esculturas y pinturas góticas tendieron a buscar la belleza y el realismo.

### ▼ Comprender manifestaciones artísticas

27 Ayúdate de la ilustración de la página anterior, y nombra los elementos arquitectónicos marcados.



A) ..... D) .....

B) ..... E) .....

C) .....

28 Coloca las siguientes características, por su letra, en el lugar correspondiente:

- a) Cristo crucificado
- b) En portadas y capiteles
- c) Tablas de madera
- d) Virgen con el Niño
- e) Miniaturas
- f) Retablos

Escultura	Pintura

### ▼ Organizar la información

29 Completa el siguiente cuadro resumen sobre la arquitectura gótica:

Material	Soportes	Arcos	Cubierta

# 6 La península ibérica entre los siglos XI y XV

## 1 La decadencia de al-Ándalus (1031-1492)

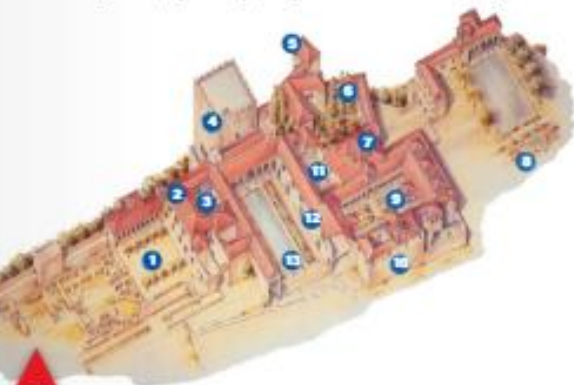
### 1.1 La evolución histórica

- Los reinos de taifas (1031-1085). En 1031, el califato se desintegró en 28 reinos independientes o taifas, al declararse independientes los gobernadores de las provincias. Cada reino comprendía una ciudad principal y el territorio de alrededor.
- Desde la conquista de Toledo por Alfonso VI, en 1085, y hasta 1212, al-Ándalus fue dominada por dos imperios norteafricanos: los **almorávides** (1085-1144) y los **almohades** (1172-1212). Estos últimos fueron derrotados por los cristianos en la batalla de las Navas de Tolosa (1212).
- El reino **nazarí de Granada** (1238-1492) sobrevivió en la Península gracias al apoyo de los musulmanes del norte de África y a la diplomacia de sus reyes.

### 1.2 Las realizaciones artísticas

Entre los siglos XI y XV el arte musulmán atravesó distintas etapas:

- El **arte de los reinos de taifas**. Destacan la Aljafería de Zaragoza (un palacio de recreo) y la alcazaba de Málaga (una fortificación palaciega).
- El **arte almohade**, con la Giralda (el alminar de la antigua mezquita) y la Torre del Oro (un edificio defensivo), ambos en Sevilla.
- El **arte nazarí**, con la fortaleza-palacio de la Alhambra de Granada. Consta de una alcazaba o recinto fortificado, del siglo XIII; y de una ciudad palatina, que incluye dos palacios construidos en el siglo XIV.



Los reinos cristianos y los reinos de taifas.

- Palacio de Mexuar.
- Sala del Meszar.
- Patio del Meszar.
- Salón de embajadores.
- Peñador de la Reina.
- Patio de Lindaraja.
- Sala de Don Hieronimo.
- Jardines del Peral.
- Patio de los Leones.
- Sala de los Abencerrajes.
- Baños reales.
- Sala de la Barca.
- Patio de los Arroyos.

## Tareas para progresar

### Usar el vocabulario

- Escribe una definición de estos términos: taifas, alcazaba y Navas de Tolosa.

.....

.....

.....

### Obtener información

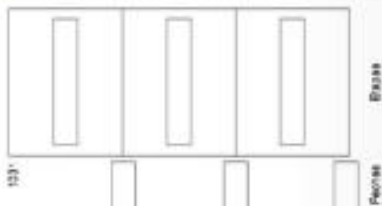
- Observa el mapa de los reinos de taifas y haz una lista con sus nombres.

.....

.....

.....

- Completa el siguiente eje cronológico sobre la evolución histórica de al-Ándalus entre los siglos XI y XV.



### Comprender la realidad histórica

- ¿Por qué etapas históricas pasó al-Ándalus entre los siglos XI y XV?

.....

.....

### Resolver problemas

- Calcula la duración de cada una de las etapas anteriores y contesta: ¿cuál tuvo una mayor duración?

.....

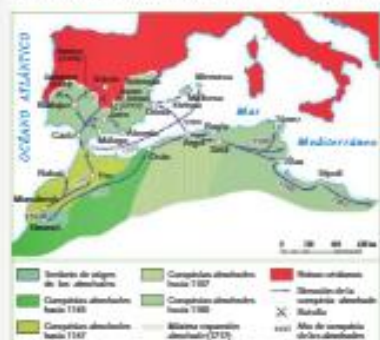
.....

### Comprender el espacio

- Utiliza el atlas y nombra países actuales por donde se extendió el imperio almohade.

.....

.....



### Conocer manifestaciones artísticas

- Relaciona cada término de la columna izquierda con uno de la columna derecha:

- |                 |                             |
|-----------------|-----------------------------|
| A. La Alhambra  | 1. Arte almohade            |
| B. La Aljalería | 2. Arte nazarí              |
| C. La Giralda   | 3. Arte de reinos de taifas |

### Organizar la información

- Completa el siguiente cuadro resumen sobre al-Ándalus.

Etapas	Cronología	Edificios destacados

## 2 La consolidación de los reinos cristianos (1031-1476)

### 2.1 Los reinos cristianos

A partir del **siglo XI**, los estados cristianos peninsulares se consolidaron como reinos y extendieron considerablemente su territorio.

- Los reinos de **Castilla y León** se unieron definitivamente en 1230 con Fernando III. Su avance territorial atravesó por varias etapas: en el **siglo XI** llegó hasta el Tago; en el **siglo XII** se conquistó Cuenca, y en el **siglo XIII** Extremadura, el valle del Guadalquivir y el reino de Murcia. En el **siglo XV**, la expansión castellana se dirigió hacia el Atlántico.
- Los reinos orientales, Aragón y Navarra estuvieron unidos entre 1076 y 1135. Durante este periodo, Alfonso I el Batallador conquistó el valle del Ebro. A su muerte, ambos reinos se separaron.

Aragón y los condados catalanes se unieron en la Corona de Aragón en 1137 y extendieron su territorio por al-Ándalus y el Mediterráneo. Navarra, tras separarse de Aragón, y ante las presiones anexionistas de Castilla y Aragón, se vinculó a Francia mediante alianzas matrimoniales desde el **siglo XIII**.



Jaime II preside las Cortes en Barcelona (1294).

La expansión territorial de los reinos cristianos.

### 2.2 Las instituciones políticas

La **monarquía**. El gobierno de los estados peninsulares recayó en reyes, aunque su poder estaba limitado por la autonomía de los señorios nobles y eclesiásticos y de las ciudades. En **Castilla** la monarquía era **unitaria**; es decir, estaba formada por un solo reino, y la autoridad del rey era mayor. En la Corona de Aragón, en cambio, era **federativa**; es decir, estaba compuesta por varios reinos (Aragón, Cataluña, Mallorca y Valencia) que contaban con sus propias instituciones, leyes y costumbres. Los reyes eran aconsejados por la **Curia Regia**, una asamblea formada por los principales nobles y eclesiásticos. Después, llamaron a los representantes de algunas ciudades, sugiriendo así las Cortes, asambleas formadas por representantes de los tres estamentos que votaban los nuevos impuestos.

## Tareas para progresar

### Localizar información en el espacio

- 9 Escribe en los recuadros correspondientes los nombres de estos reinos de la península ibérica: Castilla y León, Portugal, Aragón y Navarra.



### Relacionar informaciones

- 13 Indica si las siguientes frases son verdaderas (V) o falsas (F):

- a) En el siglo XV la expansión castellana se dirigió hacia el Atlántico.
- b) Con la muerte de Alfonso I el Batallador, Navarra y Aragón se separaron.
- c) Navarra se vinculó a Castilla por medio de alianzas matrimoniales.
- d) Las ciudades poseían una amplia autonomía para gobernarse.

### Comprender textos e informaciones

- 14 Demuestra tu comprensión marcando con una cruz las respuestas correctas.

- a) En Castilla la monarquía era federativa.
- b) En Castilla la monarquía era unitaria.
- c) En Aragón la monarquía era unitaria.
- d) En Aragón la monarquía era federativa.

- 15 Escribe el año en el que ocurrieron los siguientes hechos históricos:

- a) Unión de los reinos de Castilla y de León: .....
- b) Inicio de la Corona de Aragón: .....

### Usar el vocabulario

- 10 Escribe los conceptos correspondientes a las siguientes definiciones:

a) Asamblea formada por los principales nobles y eclesiásticos que aconsejaba al rey.

b) Asambleas formadas por representantes de los tres estamentos: nobleza, clero y gentes del común.

### Comprender la realidad histórica

- 11 ¿Por cuántas etapas pasó el avance territorial de Castilla y León?

.....

- 12 ¿Por qué territorios se extendió la Corona de Aragón?

.....

### Organizar la información

- 16 Completa las frases siguientes:

– En Castilla la monarquía era .....; es decir, estaba formada por un .....

– En la Corona de Aragón la monarquía era .....; es decir, estaba compuesta por varios reinos (Aragón, ....., Mallorca y .....

### 3 La convivencia cultural. El gótico y el mudéjar

#### 3.1 La convivencia de las tres culturas

En la Edad Media convivieron en la península ibérica las culturas musulmana, cristiana y judía. Su principal lugar de encuentro fue la **Escuela de Traductores de Toledo**, que alcanzó su mayor esplendor en el siglo XIII bajo el reinado de Alfonso X. En ella, especialistas árabes, judíos y cristianos traducían del árabe al latín o al castellano obras filosóficas y científicas traídas por los musulmanes desde Oriente.

#### 3.2 El arte gótico

La **arquitectura gótica** se desarrolló entre los siglos XII y XVI, y su edificio principal fue la **catedral**. En Castilla destacaron las catedrales de Burgos, León y Toledo (siglo XIII), y en la Corona de Aragón las de Barcelona, Valencia y Palma (siglo XIV). También se construyeron edificios civiles, como palacios, ayuntamientos y lonjas.

Otras manifestaciones del arte gótico fueron la **escultura**, concentrada en las portadas de catedrales (León y Burgos); la **pintura de retablos y miniaturas**, y las **vidrieras** (catedral de León).

#### 3.3 El original arte mudéjar

El **mudéjar** es un estilo arquitectónico original de la península ibérica en el que se mezclan influencias cristianas (románicas o góticas) y musulmanas. Los edificios, construidos entre los siglos XII y XVI, son de ladrillo, y se decoran en el interior con atauriques de yeso y en el exterior con variados motivos en ladrillo. Los focos mudéjares más destacados se situaron en Castilla, Aragón y Andalucía.



▶ Un cristiano y un musulmán juegan al ajedrez.



▶ Cristianos y musulmanes conversando.



▶ La lonja de Palma, obra gótica con funciones comerciales.



▶ San Tirso de Sahagún, obra románica mudéjar.



▶ Palacio de Don Pedro (Reales Alcázaros de Sevilla), obra gótica mudéjar.

© JACOBO GARCÍA, S.A. - Fotografías e ilustraciones de: JACOBO GARCÍA - Fotografías e ilustraciones de: JACOBO GARCÍA

### Tareas para progresar

#### ▼ Comprender la realidad histórica

17 ¿Qué era la Escuela de Traductores de Toledo?

.....

.....

.....

.....

18 ¿Entre qué siglos se desarrollaron el gótico y el mudéjar?

.....

#### ▼ Analizar estilos, artistas y obras

19 Escribe junto a cada imagen el arte, gótico o mudéjar, al que corresponde.

Explica también, brevemente, el porqué de tus respuestas.



A



B

.....

.....

.....

.....

.....

.....

.....

.....

.....

.....

.....

.....

.....

.....

.....

.....

#### ▼ Producir textos

20 Redacta un texto breve describiendo en qué se aprecia la convivencia cultural en la imagen de la página anterior.

.....

.....

.....

.....

#### ▼ Relacionar informaciones

21 Escribe, junto a cada característica, si corresponde al arte gótico (G) o al arte mudéjar (M).

a) Mezcla influencias cristianas y musulmanas.

b) Los edificios se construyen con ladrillo.

c) Su edificio principal es la catedral.

d) Los principales focos se situaron en Castilla, Aragón y Andalucía.

e) En Castilla, los edificios más destacados se levantaron en Burgos, León y Toledo.

#### ▼ Organizar la información

22 Completa este cuadro resumen sobre el arte gótico:

Catedrales del siglo XIII	Catedrales del siglo XIV	Edificios civiles

23 Completa estas frases:

- En el arte mudéjar se mezclan influencias ..... y .....

- Los edificios se decoran en el interior con ..... y en el exterior con .....

# 7 La Edad Moderna. Los descubrimientos geográficos

## 1 Los descubrimientos geográficos

### 1.1 El inicio de la Edad Moderna

Las transformaciones ocurridas en Europa desde mediados del siglo xv llevan a los historiadores a distinguir una nueva etapa histórica, la **Edad Moderna**, cuyo inicio se sitúa en la toma de Constantinopla por los turcos (1453), o en el descubrimiento de América (1492).

El principio de la Edad Moderna, es decir, los años finales del siglo xv y el siglo xvi, se conoce como la **época de los descubrimientos**.

### 1.2 Las causas de los descubrimientos

El descubrimiento de nuevos mundos se debió a diferentes **causas**, entre las que destacan:

- **Económicas.** Se buscaban nuevas rutas para acceder directamente al oro de Sudán y para traer, por vía marítima, las especias y productos de lujo de la India y de China.
- **Científicas y geográficas.** Se difundieron libros que sostenían que la Tierra era redonda, por lo que se consideraba fácil llegar a la India navegando por el oeste.
- **Técnicas.** La navegación en el mar mejoró con la generalización de la brújula y del astrolabio, que permitían orientarse, con el progreso de la cartografía y con la construcción de nuevos barcos, como la carabela, adaptada para aprovechar el viento y soportar el fuerte oleaje del océano Atlántico.

### 1.3 Viajes de exploración y descubrimiento

Los **viajes de exploración portugueses.** Tras sucesivas exploraciones por la costa africana, Bartolomé Díaz dobló el cabo de Buena Esperanza (1487), y Vasco de Gama llegó a la India (1498).

El **descubrimiento de América.** Se debió a Cristóbal Colón, que proyectó llegar a la India navegando por el oeste. Empezó el viaje desde el puerto de Palos (Huelva), y el 12 de octubre de 1492 llegó a la isla de San Salvador. Murió en 1506 creyendo haber llegado a la India. Por eso, los nuevos territorios se conocieron como las Indias y sus habitantes fueron llamados indios. El descubridor de América, como nuevo continente, fue el italiano Américo Vesputio, que dio su nombre al nuevo continente.



Los grandes descubrimientos geográficos fueron posibles gracias a la generalización de instrumentos de navegación, como el **astrolabio**, que permitía a los marinos guiarse de noche por las estrellas y navegar sin tener la costa a la vista.

## Tareas para progresar

### ▼ Comprender la realidad histórica

- 1 ¿En qué siglo se inicia la Edad Moderna y qué dos acontecimientos históricos marcan su inicio?
- .....
- .....

### ▼ Relacionar informaciones

- 2 Relaciona las frases y términos con una causa de los descubrimientos geográficos: a) brújula y astrolabio; b) libros que sostienen que la Tierra es redonda; c) búsqueda de nuevas rutas; d) carabela; e) navegar por el oeste; f) progreso de la cartografía.

Económicas	Científicas y geográficas	Técnicas

- 3 ¿Por qué han pasado a la historia Cristóbal Colón, Bartolomé Díaz y Vasco de Gama?
- .....
- .....

### ▼ Producir textos

- 4 Describe cómo era una carabela.



.....

.....

### ▼ Localizar información en el espacio

- 5 Observa el mapa y nombra países de América por donde se extendían los territorios españoles y portugueses.



.....

.....

- 6 Observa el mapa anterior y su leyenda, y cita los lugares por los que transcurrió el primer viaje de Cristóbal Colón al Nuevo Mundo.
- .....
- .....

### ▼ Organizar la información

- 7 Confecciona un esquema de flujos sobre las causas de los descubrimientos.

Económicas	.....
Científicas y geográficas	.....
Técnicas	.....

# El Estado moderno

## 2.1 Las monarquías autoritarias y sus instrumentos

Durante la Edad Moderna, las monarquías feudales se transformaron en monarquías autoritarias. En ellas, el rey reforzó su poder sobre el conjunto del reino. Esta nueva forma de organización del Estado recibe el nombre de **Estado moderno**.

En Europa, la monarquía autoritaria se afianzó en Francia, en Inglaterra y en los reinos de la península ibérica.

Los reyes utilizaron varios **instrumentos** para reforzar su poder: unificaron el territorio de sus estados; sometieron a su autoridad a todos los poderes (alta nobleza, municipios, Cortes); mejoraron la administración, fijando la corte en una ciudad, creando funcionarios profesionales y fijando impuestos; y, por último, sustituyeron las tropas feudales por un ejército permanente y constituyeron una diplomacia permanente.

## 2.2 Los grandes estados

En **Europa occidental**, las dos grandes potencias de la época fueron Francia e Inglaterra.

En la **península ibérica**, el Estado moderno fue obra de Fernando de Aragón e Isabel de Castilla, que, tras la unión de las dos coronas, unificaron los territorios peninsulares (excepto Portugal) y extendieron sus posesiones por África, América y el Mediterráneo.

En el **este de Europa**, los turcos otomanos pusieron fin al imperio bizantino; y el príncipe de Moscú, Iván el Grande, sentó las bases de un futuro imperio tras adoptar el título de zar.



Recaudadores de impuestos. La creación de impuestos ordinarios permitió a los monarcas disponer de ingresos regulares.



Europa a finales del siglo XV



Los embajadores, de Hans Holbein el Joven (1523). Los monarcas autoritarios dispusieron de embajadores en otros países, que representaban sus intereses.

## Tareas para progresar

### ▼ Usar el vocabulario

- 8 Define el término *Estado moderno*.
- .....
- .....
- .....
- 9 Completa la definición escribiendo el término correcto:
- a) Profesionales que ejecutaban las órdenes del rey.
- .....
- b) Sostituyeron a las antiguas tropas feudales.
- .....
- c) Proporcionaron al rey ingresos regulares.
- .....

### ▼ Comprender la realidad histórica

- 10 ¿Qué nombre reciben las monarquías de la Edad Moderna?
- .....
- 11 ¿Quién estableció el Estado moderno en la península ibérica?
- .....
- 12 ¿Cuáles eran las grandes potencias de Europa occidental?
- .....
- .....
- 13 ¿Qué instrumentos utilizaron los reyes para reforzar su poder?
- .....
- .....
- .....

### ▼ Relacionar informaciones

- 14 Relaciona los términos de las dos columnas:
- |  |  |
|--|--|
| 1. Francia e Inglaterra                | A. Ocupación del imperio bizantino         |
| 2. Unificación de la península ibérica | B. Príncipe de Moscú                       |
| 3. Turcos otomanos                     | C. Grandes potencias europeas              |
| 4. Título de zar                       | D. Fernando de Aragón e Isabel de Castilla |

### ▼ Comprender textos e informaciones

- 15 ¿Para qué constituyeron los reyes una diplomacia permanente?
- Marca con una cruz la respuesta correcta.
- a) Para unificar el territorio
- b) Para ganar autoridad
- c) Para representar sus intereses

### ▼ Organizar la información

- 16 Completa el siguiente cuadro resumen sobre el estado moderno:

Instrumentos de la monarquía autoritaria	Grandes estados europeos	
	Europa occidental	Europa oriental

## Los cambios religiosos. Reforma y contrarreforma

En el siglo XVI, la unidad religiosa de Europa occidental en torno a la Iglesia católica se rompió, tras la aparición de la Reforma protestante. Esta estuvo motivada, entre otras razones, por el desprestigio del papa y del clero y por los abusos de la Iglesia.

### La reforma luterana

El inicio de la reforma religiosa se produjo en Alemania, con el monje agustino **Martín Lutero**, quien, en 1517, rechazó la venta de indulgencias, ordenada por el papa León X para pagar las obras del Vaticano, y publicó 95 tesis contra ellas.

El papa condenó y excomulgó a Lutero, quien fue fijando su doctrina basada en la justificación por la fe (basta tener fe para salvarse) y la libre interpretación de la Biblia. La doctrina luterana se difundió rápidamente por algunos estados alemanes y por el centro y el norte de Europa.



Martín Lutero (1483-1546).



Juan Calvino (1509-1561).



Enrique VIII (1491-1547).



### Las reformas calvinista y anglicana

La reforma calvinista fue predicada por Juan Calvino desde 1536 en Ginebra (Suiza). Se basa en la creencia en la predestinación, según la cual, las personas están destinadas por Dios a salvarse o a condenarse al margen de sus acciones. La doctrina tuvo gran éxito en los Países Bajos, Suiza, Escocia y Francia.

El **anglicanismo** surgió en Inglaterra, donde el rey Enrique VIII rechazó la obediencia al papa y se proclamó, en 1534, cabeza de la Iglesia de Inglaterra.

### La reforma católica o Contrarreforma

Para frenar la expansión de la Reforma protestante, la Iglesia católica emprendió su propia reforma, conocida como **Contrarreforma**. Sus principales instrumentos fueron:

- El **Concilio de Trento** (1545-1563), que definió la doctrina católica y la difundió mediante catecismos, creó los seminarios para formar a los sacerdotes y obligó a los obispos a residir en sus diócesis.
- La **Compañía de Jesús**, fundada por San Ignacio de Loyola en 1540. Sus miembros hacían un voto especial de obediencia al papa, tenían una sólida formación teológica y se dedicaron a la predicación y a la educación.

### Tareas para progresar

#### Usar el vocabulario

**17** Define los términos *indulgencia* y *predestinación*.

.....

.....

#### Comprender la realidad histórica

**18** Escribe las causas de la aparición de la Reforma protestante:

.....

**19** ¿Dónde se inició la reforma religiosa y quién la inició?

.....

**20** ¿Qué instrumentos utilizó la Iglesia católica en su Contrarreforma?

.....

#### Producir textos

**21** Lee una de las 95 tesis de Lutero y trata de explicarla: «21. En consecuencia, se equivocan aquellos predicadores de indulgencias que afirman que el hombre es absuelto a la vez que salvo de toda pena, a causa de las indulgencias del papa».

.....

#### Relacionar informaciones

**22** Indica si las siguientes frases son verdaderas (V) o falsas (F):

- a) Lutero rechazó las indulgencias y fue excomulgado por el papa.
- b) Las indulgencias son documentos para perdonar los pecados.
- c) El calvinismo surgió en Inglaterra y rechaza la obediencia al papa.
- d) Enrique VIII se proclamó cabeza de la Iglesia anglicana.
- e) El calvinismo se basa en la predestinación.

**23** Relaciona cada religión con una frase:

- |                 |                            |
|-----------------|----------------------------|
| 1. Catolicismo  | A. No obediencia al papa   |
| 2. Luteranismo  | B. Concilio de Trento      |
| 3. Calvinismo   | C. Predestinación          |
| 4. Anglicanismo | D. Justificación por la fe |

#### Organizar la información

**24** Con ayuda del texto y del mapa completa este cuadro resumen sobre las religiones protestantes.

Religión	Creador	Países por los que se extendió



## El Renacimiento. Italia y los primitivos flamencos

El Renacimiento fue el estilo artístico que aplicó las ideas humanistas al campo del arte. Surgió en Italia en el siglo xv (Quattrocento), y se extendió por el resto de Europa en el siglo xvi (Cinquecento).

### Las características del nuevo estilo

Como modelo, los artistas del Renacimiento tomaron las obras y temas de los antiguos griegos y romanos, e intentaron representar la realidad utilizando la **perspectiva lineal**.

- El **antropocentrismo** volvió al arte. Los edificios se hicieron a escala humana, y el ser humano se convirtió en protagonista de las esculturas y las pinturas.
- Los **artistas** mejoraron su condición social. Los mejores contaron con el apoyo de **mecenas**, ricos personajes como reyes, papas, nobles y burgueses, que los protegieron o costearon sus obras.

### El Renacimiento en Italia

En el Quattrocento (**siglo xv**), la cuna del nuevo estilo fue la ciudad de **Florenia**. Los arquitectos principales fueron Filippo Brunelleschi, autor de la cúpula de la **catedral de Florenia** y del **Palacio Pitti**, y León B. Alberti. En escultura destacaron Ghiberti y Donatello; y en pintura, Masaccio y Botticelli.

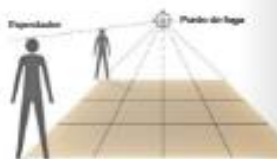
En el Cinquecento (**siglo xvi**) el centro se trasladó a **Roma**, donde los papas impulsaron un gran número de construcciones. La más destacada fue la **basílica de San Pedro del Vaticano**, diseñada por Bramante y continuada por Miguel Ángel, que realizó la cúpula.

En **escultura**, Miguel Ángel realizó magníficas obras en mármol (*David*, *Moisés*, etc.). En este siglo trabajaron también los **pintores** más famosos: Leonardo da Vinci, cuya gran aportación fue la técnica del *sfumatto* aplicada en obras como *La Sagrada Cena* y *La Gioconda*; Miguel Ángel, autor de los frescos de la **Capilla Sixtina**, en el Vaticano; y Rafael, cuyas obras principales son la **Escuela de Atenas** y varias **Virgenes con el Niño**.

### La pintura flamenca

En los Países Bajos, la manifestación artística más importante fue la **pintura**. La **escuela flamenca**, conocida como **primitivos flamencos**, floreció en el **siglo xv** y tuvo sus propios rasgos. El principal fue la introducción de la **técnica del óleo**, que consiste en **dissolver los colores en aceite de linaza**.

Los iniciadores de la escuela fueron los hermanos **Van Eyck**, con el políptico del **Coronación mística**. Uno de ellos, Jan Van Eyck realizó también excelentes retratos, como *El matrimonio Arnolfini*. Otros pintores destacados fueron **Roger Van der Weyden**, que introdujo los sentimientos en obras como *El Descendimiento*; y **El Bosco**, que en *El jardín de las delicias* criticó y caricaturizó la sociedad de su época a través de imágenes y seres fantásticos.



▶ La perspectiva lineal.



▶ Cúpula de la catedral de Florenia, de Brunelleschi.



▶ El matrimonio Arnolfini, de Jan van Eyck.

## Tareas para progresar

### Usar el vocabulario

- 25** Define los términos **mecenas** y **técnica del óleo**.
- .....
- .....
- .....

### Comprender la realidad histórica

- 26** Contesta a estas preguntas:
- a) ¿Dónde y cuándo surgió el Renacimiento?
- .....
- b) ¿En qué siglo se extendió por Europa?
- .....
- c) Cuando hablamos de Quattrocento y de Cinquecento, ¿a qué siglos nos referimos?
- .....

### Relacionar informaciones

- 27** Indica si las siguientes frases son verdaderas (V) o falsas (F):
- a) El principal modelo del Renacimiento fue el arte románico.
- b) Los edificios renacentistas se hacían a escala humana.
- c) El ser humano fue el protagonista de esculturas y pinturas.
- d) En el Renacimiento, el arte volvió al antropocentrismo.
- e) Los mecenas protegían a los artistas y costeaban sus obras.

### Comprender manifestaciones artísticas

- 28** Termina cada frase con el nombre de una ciudad italiana:
- a) En el siglo xv, la cuna del Renacimiento fue: .....
- b) En el siglo xvi, el centro artístico se trasladó a: .....

### Relaciona cada pintor con una obra:

- |                      |                      |
|----------------------|----------------------|
| 1. Leonardo da Vinci | A. Escuela de Atenas |
| 2. Miguel Ángel      | B. La Gioconda       |
| 3. Rafael            | C. Capilla Sixtina   |

- 30** Coloca cada grupo de artistas en su lugar correspondiente: a) Masaccio y Botticelli; b) Ghiberti y Donatello; c) Brunelleschi y Alberti.

Arquitectura	Escultura	Pintura

### Organizar la información

- 31** Escribe cada artista en su siglo correspondiente: Brunelleschi, Masaccio, Alberti, Ghiberti, Miguel Ángel, Rafael, Donatello, Leonardo da Vinci y Botticelli.

Siglo xv	Siglo xvi

# 8 La hegemonía española en el siglo XVI

## 1 El inicio de la Edad Moderna en España. Los Reyes Católicos

La Edad Moderna se inició en España con el reinado de los Reyes Católicos. En él se pusieron las bases de la hegemonía española en Europa, consolidada en el siglo XVI por Carlos I y Felipe II.

### 1.1 La unión dinástica de Castilla y Aragón

La unión de Castilla y Aragón se produjo gracias al matrimonio de Isabel I de Castilla y Fernando II de Aragón (1469).

Se trató solo de una unión dinástica; por eso, los territorios de las dos coronas solo tuvieron en común a los monarcas, y cada uno mantuvo sus instituciones, leyes, costumbres y monedas.

La unión dinástica, sin embargo, permitió establecer objetivos comunes, como la unidad territorial y religiosa y el fortalecimiento del poder de la monarquía.

### 1.2 La unidad territorial y religiosa

La **unificación territorial** se logró con la anexión a Castilla del reino nazarí de Granada (1492) y del reino de Navarra (1512).

Para conseguir la **unidad religiosa**, los Reyes Católicos crearon el Tribunal de la Inquisición (1478), una institución que perseguía a los herejes; y obligaron a bautizarse o a marcharse a los judíos (1492) y a los mudéjares de Granada (1500).

### 1.3 El fortalecimiento de la monarquía

Los Reyes Católicos implantaron el Estado moderno y la monarquía autoritaria en España a través de las siguientes medidas:

- **Impusieron su autoridad.** Para ello, sometieron a la alta nobleza y a los municipios, y convocaron escasamente a las Cortes.
- **Mejoraron la administración.** Para ello, crearon Consejos integrados por juristas; establecieron nuevos impuestos, y modernizaron el ejército organizándolo en tercios.
- **Realizaron una política exterior común.** Gracias a ella, Aragón recuperó Nápoles, Sicilia, el Rosellón y la Cerdeña. Castilla conquistó plazas en el norte de África, culminó la conquista de Canarias (1496) y descubrió América (1492).



La línea del tiempo.

## Tareas para progresar

### ▼ Usar el vocabulario

1 Busca en el vocabulario el significado de los términos **Consejos** y **tercios**, y anota su definición.

.....

.....

.....

### ▼ Comprender la realidad histórica

2 ¿Qué objetivos comunes permitieron establecer la unión dinástica?

.....

.....

.....

### ▼ Comprender el espacio

3 Observa el mapa inferior y nombra los territorios que comprendía el reino de Castilla y la corona de Aragón.

.....

.....

.....

### ▼ Obtener información

4 Busca la fecha de los acontecimientos siguientes, y ordénalos de forma cronológica:

- Conquista de Canarias.
- Expulsión de los judíos.
- Matrimonio de Isabel y Fernando.
- Creación del Tribunal de la Inquisición.
- Conquista de Granada.
- Incorporación del reino de Navarra.

### ▼ Relacionar informaciones

5 Coloca cada hecho histórico en el recuadro correspondiente: a) anexión de Granada a Castilla; b) expulsión de los judíos; c) creación del Tribunal de la Inquisición; d) incorporación del reino de Navarra; e) expulsión de los mudéjares de Granada.

Unidad territorial	Unidad religiosa

6 Señala con una X la frase verdadera:

- Los Reyes Católicos implantaron la monarquía absoluta.
- La unión de Castilla y Aragón fue dinástica.

### ▼ Relacionar informaciones

7 Completa los espacios en blanco de esta frase: Los Reyes Católicos crearon ..... integrados por juristas, establecieron nuevos ..... y modernizaron el ejército, organizándolo en .....



# La hegemonía hispana. Carlos I y Felipe II

En el siglo XVI, Carlos I (1516-1556) y Felipe II (1556-1598) consiguieron imponer la hegemonía hispana en Europa y ampliaron las posesiones españolas en todo el mundo.

No obstante, ambos monarcas tuvieron que enfrentarse a numerosos problemas internos y externos.

## 2.1 Los conflictos internos

Carlos I nació y se crió en los Países Bajos, y sucedió a su abuelo Fernando el Católico en 1516. Con él se inició la casa de Austria.

A su llegada a España, desató una fuerte oposición, ya que no hablaba castellano; pidió enormes sumas de dinero para financiar su elección como emperador, y dejó el gobierno en manos de consejeros flamencos. Esta situación provocó dos revueltas: la de las Comunidades en Castilla (1520-1521) y la de las Germanías en Valencia y Mallorca (1519-1523).

Felipe II se enfrentó a una rebelión de los moriscos en las Alpujarras granadinas (1568), causada por las presiones que sufrían para abandonar su religión y sus costumbres; y a una rebelión en Aragón (1590), que consideraba que las actuaciones del rey no respetaban sus fueros o derechos tradicionales.



▶ Carlos I (1500-1558).



▶ Felipe II (1577-1598).

## 2.2 Los conflictos externos

Durante sus reinados, Carlos I y Felipe II tuvieron que hacer frente a cinco graves problemas internacionales:

- **La rivalidad con Francia.** Este país, que se veía «cercado» por las posesiones europeas de la casa de los Austrias, se enfrentó a Carlos I por el dominio del norte de Italia. El conflicto se resolvió cuando Felipe II derrotó a los franceses en la batalla de San Quintín (1557).
- **El avance del imperio turco.** Los turcos amenazaron al imperio en Centroeuropa y el Mediterráneo, donde se aliaban con los piratas norteafricanos. El problema se solucionó con la derrota turca en Lepanto (1571), gracias a una alianza naval de Felipe II, Venecia y el papa.
- **El problema protestante en Alemania,** donde algunos príncipes se convirtieron al luteranismo y reclamaban la autonomía. Tras numerosas guerras, Carlos I firmó la Paz de Augsburgo (1555), que reconocía la libertad religiosa en Alemania.
- **La rebelión de los Países Bajos,** que deseaban alcanzar la autonomía, contra Felipe II. Finalmente, formaron las Provincias Unidas (1579), independizándose de hecho.
- **Inglatera.** Este país apoyaba la sublevación de los Países Bajos y los ataques de los corsarios al comercio con América. Felipe II envió la Armada Invencible para invadir la isla (1588), pero fracasó, lo que supuso la primera gran derrota de la monarquía hispánica.

## Tareas para progresar

### ▼ Localizar información en el espacio

- 8 Con ayuda del mapa, escribe la herencia que recibió Carlos I:
- De Isabel I de Castilla: .....
  - De Fernando II de Aragón: .....
  - De María de Borgoña: .....
  - De Maximiliano de Austria: .....

### ▼ Comprender la realidad histórica

- 10 ¿Qué dos monarcas reinaron en España en el siglo XVI y en qué fechas reinó cada uno?
- .....
- .....

### ▼ Relacionar informaciones

- 11 Relaciona los términos de las dos columnas:
- |                                |              |
|--------------------------------|--------------|
| 1. Revuelta de las Comunidades | A. 1590      |
| 2. Revuelta de las Germanías   | B. 1520-1521 |
| 3. Rebelión de las Alpujarras  | C. 1519-1523 |
| 4. Rebelión en Aragón          | D. 1568      |
- 12 Relaciona cada hecho con el reinado de Carlos I o de Felipe II: a) Batalla de San Quintín; b) Batalla de Lepanto; c) Paz de Augsburgo; d) Armada Invencible; e) Rebelión de los Países Bajos.

Carlos I	Felipe II



### ▼ Usar el vocabulario

- 9 Completa la definición escribiendo el término correcto:
- a) Revueltas internas ocurridas durante el reinado de Carlos I.  
.....
- b) Rebelión causada por las presiones que sufrían para abandonar su religión.  
.....
- c) Paz que reconocía la libertad religiosa en Alemania.  
.....

### ▼ Organizar la información

- 13 Completa con los conflictos externos:
- .....
- .....
- .....
- .....
- .....

© BRUNO AUGUSTA, S.A. - BRUNO AUGUSTA, S.A. - BRUNO AUGUSTA, S.A. - BRUNO AUGUSTA, S.A. - BRUNO AUGUSTA, S.A.

© BRUNO AUGUSTA, S.A. - BRUNO AUGUSTA, S.A. - BRUNO AUGUSTA, S.A. - BRUNO AUGUSTA, S.A. - BRUNO AUGUSTA, S.A.

# La conquista y organización de América

## 3.1 Exploraciones y conquistas

Finalizada la fase de descubrimiento, en el siglo XVI, los españoles procedieron a conquistar y organizar el territorio americano.

Las nuevas exploraciones se llevaron a cabo, en su mayoría, en el reinado de Carlos I. Así, en 1513, Vasco Núñez de Balboa descubrió el mar del Sur (océano Pacífico); y entre 1519 y 1522, Magallanes y Elcano dieron la primera vuelta al mundo.

La conquista del territorio fue un proceso rápido (1520-1545), y se llevó a cabo en dos etapas:

- En una **primera etapa** se incorporaron los grandes imperios americanos: Hernán Cortés conquistó el imperio azteca (1519-1521) tras tomar su capital, Tenochtitlán, y hacer prisionero al rey Moctezuma; y Francisco Pizarro conquistó el imperio inca tras ajusticiar al rey Atahualpa y tomar Cuzco, su capital (1531).
- En una **segunda etapa** se incorporaron el resto de América Central y del Sur, excepto Brasil; el sur de América del Norte (Florida, Texas, California) y las islas Filipinas, en Asia (1571).

## 3.2 La organización de las Indias

Tras la conquista, las Indias se incorporaron a Castilla, que poco a poco organizó su gobierno y administración.

El **gobierno** de los nuevos territorios se encomendó al **Consejo de Indias**, un nuevo organismo creado en 1524 que controlaba desde Castilla los asuntos americanos.

La **administración del territorio** se organizó en virreinos (Nueva España y Perú), amplios territorios gobernados por virreyes o representantes del rey; **gobernaciones** o provincias, mandadas por gobernadores; y **cabildos** o municipios, regidos por un ayuntamiento. Para la administración de justicia, se crearon **Audiencias**.

## 3.3 Las consecuencias de la conquista

Las consecuencias de la conquista de América fueron distintas para los pueblos americanos y para Castilla:

- Para los **pueblos americanos** fueron, en general, **negativas**: desaparecieron sus imperios; los indios sufrieron un fuerte descenso demográfico debido a los trabajos forzados y a las enfermedades; abandonaron su economía tradicional; quedaron subordinados socialmente a los conquistadores, y desaparecieron sus antiguas culturas.
- Para **Castilla**, la conquista financió la hegemonía europea en el siglo XVI; supuso una elevada emigración; estimuló la economía; desarrolló el comercio; provocó una fuerte subida de precios por la abundancia de metales preciosos, e impulsó ciencias como la cartografía, la geografía, o la biología.



▶ Indumentaria de un conquistador español.



▶ Áreas de influencia.

## Tareas para progresar

### ▼ Usar el vocabulario

14 Define los términos Consejo de Indias y virreinato.

.....  
 .....  
 .....

15 Busca en el vocabulario el término audiencias y anota su significado.

.....  
 .....

### ▼ Comprender la realidad histórica

16 ¿Por qué han pasado a la historia los personajes siguientes?

a) Vasco Núñez de Balboa:

.....  
 .....

b) Magallanes y Elcano:

.....  
 .....

c) Hernán Cortés y Francisco Pizarro:

.....  
 .....

### ▼ Producir textos

17 Observa el dibujo de la página anterior y redacta un texto breve explicando cómo era la indumentaria de los conquistadores españoles.

.....  
 .....  
 .....  
 .....

### ▼ Relacionar informaciones

18 Escribe al lado de cada frase si se trata de una exploración (E) o de una conquista (C).

- a) Incorporación del imperio azteca.
- b) Primera vuelta al mundo.
- c) Descubrimiento del mar del Sur.
- d) Incorporación del imperio inca.
- e) Incorporación de América Central y del Sur.

### ▼ Obtener información

19 Escribe al lado de cada hecho la fecha en la que tuvo lugar:

- a) Descubrimiento del mar del Sur .....
- b) Primera vuelta al mundo .....
- c) Creación del Consejo de Indias .....
- d) Incorporación de las islas Filipinas .....

### ▼ Organizar la información

20 Completa las siguientes frases:

- a) El gobierno de los nuevos territorios se encomendó al .....
- b) La administración del territorio se organizó en .....
- c) Para administrar la justicia, se crearon .....

21 Completa este cuadro resumen sobre las consecuencias de la conquista de América.

Pueblos americanos	Castilla

# El arte renacentista en España

En el siglo XVI comenzó la etapa más floreciente de la cultura española, el Siglo de Oro, que se prolongó también durante el siglo XVII.

## La evolución de la arquitectura

La arquitectura renacentista española se inspiró en modelos italianos. En su evolución se distinguen tres periodos o estilos:

- El **plateresco** (1500-1530) mantuvo las formas góticas en el interior, pero recubrió las fachadas con decoración renacentista. Esta incluía medallones, escudos y grutescos, realizados con una minuciosidad semejante al trabajo de un platero, de donde procede el nombre del estilo. Ejemplos notables son las fachadas de la universidad de Salamanca y del convento de San Marcos de León.
- El **purismo** (1530-1560) adoptó los elementos constructivos renacentistas y simplificó y aumentó el tamaño de la decoración. Los principales edificios son el palacio de Carlos I, en Granada, y la fachada de la universidad de Alcalá de Henares.
- El **herreriano** (1560-1600) toma el nombre de su arquitecto más famoso, Juan de Herrera. Se caracterizó por las formas simples, las cubiertas exteriores de pizarra y la desnudez decorativa. El edificio más importante fue el monasterio-palacio de El Escorial.



► Universidad de Salamanca.



► Universidad de Alcalá de Henares.



► Monasterio de El Escorial.



► Virgen de las Angustias.

## La escultura renacentista

La escultura renacentista española de la época presenta rasgos peculiares en relación con la del resto de Europa, pues los escultores crearon un estilo propio. Es una escultura realista, de temática principalmente religiosa, y centrada en tallas en madera policromada, retablos, sillerías de coro y sepulcros.

Los escultores más destacados fueron Alonso de Berruguete (*El sacrificio de Isaac* y la sillería de la catedral de Toledo), y Juan de Juni (*El entierro de Cristo* y la *Virgen de las Angustias*).

## La pintura renacentista

La pintura renacentista española estuvo influida por los grandes maestros italianos, y su temática fue principalmente religiosa. Los pintores más destacados fueron Pedro Berruguete, Luis de Morales, Juan de Juanes, Vicente Masip y, sobre todo, El Greco.

La pintura de El Greco se caracterizó por las figuras de proporciones alargadas, que suelen adoptar posturas complejas; las composiciones complicadas; las luces fuertes, brillantes e irrealas; un colorido de tonos fríos (azules, grises), y la temática religiosa y de retratos.

Entre sus obras más conocidas se encuentran *El expolio* (1577), *El martirio de San Mauricio* (1580), *El entierro del señor de Orgaz* (1588) y retratos como *El caballero de la mano en el pecho* (1584).

## Tareas para progresar

### Conocer manifestaciones artísticas

22 ¿Qué nombre reciben los tres estilos de la arquitectura renacentista en España y cuál es su cronología?

.....

.....

.....

23 Nombra las características de la escultura renacentista.

.....

.....

.....

### Obtener información

24 Escribe junto a cada escultor sus obras más representativas.

a) Alonso de Berruguete .....

.....

b) Juan de Juni .....

.....

### Relacionar informaciones

25 Relaciona las siguientes obras y características con un estilo arquitectónico: a) El Escorial; b) Palacio de Carlos I; c) Universidad de Salamanca; d) decoración muy minuciosa; e) formas simples; f) aumento del tamaño de la decoración.

Estilos	Obras y características

### Analizar estilos, artistas y obras

26 Describe el monasterio-palacio de El Escorial, indicando como mínimo sus dependencias y algunas características del estilo.



.....

.....

.....

27 Escribe las características de la pintura de El Greco que se aprecian en este cuadro.



.....

.....

.....

# 9 El siglo XVII. Absolutismo y Barroco

## 1 El espacio y el tiempo

En el siglo XVII, en Europa y en España se produjeron importantes cambios: la pérdida de la hegemonía de la monarquía hispánica, el paso de la monarquía autoritaria a la monarquía absoluta y el surgimiento de un nuevo estilo artístico, el Barroco.

### 1.1 La situación internacional

En el siglo XVII, la situación internacional estuvo marcada por dos importantes conflictos:

- La **guerra de los Treinta Años** (1618-1648) comenzó como un conflicto alemán que enfrentó al emperador, católico y partidario de la unidad del imperio, con los príncipes alemanes, protestantes y defensores de su autonomía. El enfrentamiento se internacionalizó cuando ambos contendientes recibieron el apoyo de otros países. Como resultado, España y el emperador fueron derrotados en Rocroi (1643) y firmaron la **Paz de Westfalia** (1648). En ella, el emperador aceptaba la tolerancia religiosa y España concedía la independencia a las Provincias Unidas.
- La **guerra entre España y Francia** enfrentó a estos dos países por conseguir la hegemonía europea. España fue derrotada y firmó la **Paz de los Pirineos** (1659), por la que cedía a Francia los territorios catalanes situados al norte de los Pirineos y se fijaba la frontera entre los dos países en esta cordillera. La paz supuso el fin de la hegemonía española en Europa y el comienzo de la francesa.

### 1.2 Monarquías absolutas y sistemas parlamentarios

En el siglo XVII, la mayoría de los estados europeos pasó de la monarquía autoritaria a la monarquía absoluta. No obstante, en algunos países se impuso el parlamentarismo.

- En las **monarquías absolutas** el rey concentró todos los poderes del Estado y gobernó sin contar con las instituciones tradicionales, como las Cortes o Parlamentos. El mejor ejemplo de monarca absoluto fue **Luis XIV de Francia** (1643-1715), conocido con el sobrenombre del «Rey Sol».
- Los **sistemas parlamentarios** se impusieron en **Inglatera**, donde tras las **revoluciones de 1640 y 1688** el rey firmó una **Declaración de Derechos** (1689) que le obligaba a cumplir las leyes aprobadas por el Parlamento; y en las **Provincias Unidas**, donde tras la independencia de España se implantó una república.



▶ Luis XIV de Francia.



▶ Guillermo III de Francia.

## Tareas para progresar

### ▼ Comprender la realidad histórica

1 ¿Qué cambios se produjeron en Europa durante el siglo XVI?

.....  
 .....  
 .....

2 ¿Cómo comenzó y cómo terminó la guerra de los Treinta Años?

.....  
 .....  
 .....

3 ¿Qué documento obligaba a un rey a cumplir las leyes del Parlamento?

.....  
 .....

### ▼ Usar el vocabulario

4 Escribe el término definido:

a) Monarquía en la que el rey concentra todos los poderes del Estado.

b) Paz que supuso el fin de la hegemonía española en Europa.

c) Estado europeo en el que se implantó una república en el siglo XVI.

d) Monarca conocido con el sobrenombre de «Rey Sol».

e) Guerra que comenzó como un conflicto alemán entre el emperador y los príncipes.

### ▼ Relacionar informaciones

5 Indica en cada frase si es verdadera (V) o falsa (F):

- a) El poder del rey absoluto proviene del pueblo.
- b) En la monarquía parlamentaria, el rey es responsable de sus actos ante el Parlamento.
- c) Tras su independencia de España, en las Provincias Unidas se implantó una república.

### ▼ Producir textos

6 A partir de la información del texto, explica, con tus propias palabras, quién fue Luis XIV de Francia.

.....  
 .....

### ▼ Comprender el espacio

7 Observa el mapa y cita las posesiones españolas en Europa después de la Paz de Westfalia.



.....  
 .....

## La monarquía hispana y sus problemas

En España reinaron en el siglo XVII los Austrias menores: Felipe III (1598-1621), Felipe IV (1621-1665) y Carlos II (1665-1700). Con ellos se produjo la progresiva decadencia política, demográfica y económica.

### 2.1 La política de la monarquía

En España también se implantó la monarquía absoluta, aunque los reyes delegaron las tareas de gobierno en **validos**, personas de su absoluta confianza que lo ejercieron en su nombre. Fue el caso de los duques de Lerma y de Uceda, en el reinado de Felipe III, o del conde-duque de Olivares, en el de Felipe IV.

Además, no se implantó una monarquía centralizada, sino que cada territorio mantuvo su propia organización.

### 2.2 Las dificultades demográficas y económicas

- La **población** española se redujo de 8 a 6 millones de habitantes. Las causas fueron las continuas guerras, las malas cosechas, las epidemias de peste bubónica, la fuerte emigración a América y la **expulsión de los moriscos**, decretada en el reinado de Felipe III (1609) y que supuso la salida de España de unas 300 000 personas.
- La **agricultura** atravesó una fuerte crisis a causa de las guerras, las malas cosechas y la expulsión de los moriscos, que provocó el abandono de ciertos cultivos, como los de huerta, en favor de los cereales.
- La **industria** tuvo escaso desarrollo. Las riquezas traídas de América en el siglo anterior no se emplearon en promoverla sino en comprar productos extranjeros. Todo ello provocó una profunda crisis de los gremios.
- El **comercio** con América decayó, debido a los ataques de los piratas a las flotas y a la gran extensión del contrabando y del comercio ilegal.



► El conde-duque de Olivares, de Velázquez.



► Difusión de la peste en el siglo XVII.

## Tareas para progresar

### ▼ Usar el vocabulario

- 8 Define el término válido.

.....

.....

### ▼ Comprender la realidad histórica

- 9 Nombra los monarcas españoles del siglo XVII y anota, junto a cada uno, la cronología de su reinado.

.....

.....

- 10 Cita las causas del descenso de la población española en el siglo XVII.

.....

.....

### ▼ Relacionar informaciones

- 11 Relaciona con la agricultura, la industria o el comercio: a) expulsión de los moriscos; b) abandono de ciertos cultivos; c) contrabando; d) compra de productos extranjeros; e) crisis de los gremios; f) ataques de los piratas a las flotas.

Agricultura	Industria	Comercio

- 12 Sitúa en el lugar correspondiente: a) duque de Lerma; b) conde-duque de Olivares; c) duque de Uceda.

Felipe III	Felipe IV

### ▼ Comprender información gráfica

- 13 Analiza el cuadro estadístico inferior de la población europea, y responde:

	1600	1700		1600	1700
Francia	18	19	Suecia	1	1,4
España	8	6	Estados alemanes	18	30
Inglaterra	4,5	5,5	Estados italianos	10	11,5
Provincias Unidas	1,3	1,6	Rusia	11	17

- a) ¿Qué años compara? .....
- b) ¿Qué países aumentaron y qué países disminuyeron su población? .....
- c) ¿En cuántos millones de habitantes aumentó o disminuyó la población española en el siglo XVII? .....

### ▼ Comprender el espacio

- 14 Con ayuda de un atlas, escribe las provincias españolas afectadas por la peste en el siglo XVII.

.....

.....

### ▼ Organizar la información

- 15 Completa el siguiente cuadro resumen sobre los problemas económicos:

Agricultura	Industria	Comercio

## El arte barroco

### 3.1 Las características del nuevo estilo

El Barroco surgió en el siglo XVII en la Roma de los papas. Fue un estilo caracterizado por la novedad, el movimiento, los contrastes, el gusto por lo sorprendente y lo teatral, y el deseo de provocar emoción.

Los clientes principales del arte fueron la Iglesia católica, que lo usó para hacer propaganda de su doctrina frente al protestantismo; los monarcas absolutistas, que lo utilizaron para manifestar su poder, y la burguesía enriquecida, que mostraba así su éxito económico.

### 3.2 La arquitectura barroca

Los elementos arquitectónicos (muros, plantas, soportes, arcos, cubiertas) tienen un gran movimiento por el uso de líneas curvas. El mejor ejemplo es la columna «salomónica», de fuste retorcido. Los edificios principales fueron las iglesias, que adoptaron a veces plantas ovaladas, elípticas o mixtilíneas, y los palacios.

Las escuelas arquitectónicas principales se localizaron en Italia, donde destacaron la columnata de la plaza de San Pedro y el Baldaquino de San Pedro, realizadas por Bernini; en Francia, con el palacio de Versalles; y en España, con la Plaza Mayor y el Ayuntamiento de Madrid.



▶ Columnata de San Pedro del Vaticano, de Bernini.

### 3.3 La escultura y la pintura barrocas

La escultura y la pintura barrocas tuvieron en común caracteres generales como el naturalismo, la expresividad, el movimiento, los contrastes de luces y sombras, y las composiciones complejas. Los temas principales fueron religiosos, mitológicos, de la vida cotidiana y retratos.

Dentro de la escultura, en Italia destacó Gianlorenzo Bernini, que realizó el Éxtasis de Santa Teresa. En España los escultores se centraron en la talla de imágenes religiosas en madera policromada, destacando Gregorio Fernández, Martínez Montañés y Alonso Cano.

En la pintura destacaron Caravaggio, en Italia (*Vocación de San Mateo*); Rembrandt, en Holanda (*Conversión de San Pablo*); Rubens, en Flandes (*Las tres Gracias*); y Velázquez, en España (*Las Meninas*, *La rendición de Breda*).



▶ Columnas salomónicas del Baldachino de San Pedro, de Bernini.



▶ Éxtasis de Santa Teresa, de Bernini.



▶ Las Tres Gracias, de Rubens.

© DIFUSO AUPYA, S.A. - DIFUSO AUPYA, S.A. - DIFUSO AUPYA, S.A. - DIFUSO AUPYA, S.A. - DIFUSO AUPYA, S.A.

## Tareas para progresar

### ▼ Usar el vocabulario

16 Define los términos barroco y columna salomónica.

.....

.....

.....

.....

17 Busca en el vocabulario el término plaza mayor y anota su significado.

.....

.....

.....

### ▼ Comprender manifestaciones artísticas

18 ¿Dónde y cuándo surgió el Barroco?

.....

.....

.....

.....

19 ¿Quiénes fueron los clientes principales del arte barroco y para qué lo utilizaron?

.....

.....

.....

### ▼ Relacionar informaciones

20 Relaciona cada autor con un lugar.

- |                       |            |
|-----------------------|------------|
| 1. Bernini            | A. Flandes |
| 2. Rembrandt          | B. Holanda |
| 3. Gregorio Fernández | C. Italia  |
| 4. Rubens             | D. España  |

### ▼ Analizar estilos, artistas y obras

21 Lee la siguiente información sobre Velázquez y numera los cuadros de forma cronológica.

Diego Rodríguez de Silva y Velázquez (1599-1660) comenzó su formación en Sevilla dentro del tenebrismo, realizando obras de fuerte iluminación y gran realismo como *La vieja friendo huevos* o *El aguador de Sevilla*.

En 1623 se trasladó a Madrid, donde se convirtió en pintor del rey Felipe IV y realizó los primeros retratos de los reyes y temas mitológicos como *El infante de Baco* o *Los borrachos*.

En 1629 viajó a Italia. Allí pintó *La Inagua de Vulsano* y recibió la influencia de los artistas italianos. Gracias a ello, abandonó el tenebrismo y adoptó un colorido de tonos cálidos verdosos y azules y una luz más natural.

A su regreso a Madrid en 1631, realizó retratos de los reyes y de borbones, y *La rendición de Breda*.

Tras un segundo viaje a Italia (1649-1651), donde pintó dos versiones de la *Villa Medicea*, adquirió una gran maestría en la técnica de la perspectiva aérea. En esta época pintó *Las Meninas*, un retrato colectivo de la familia real, y *Las Hilanderas*, un cuadro mitológico que representa el castigo de la tejedora Aracne por la diosa Pallas Atenea.



▶ La rendición de Breda.

▶ Las Meninas.



▶ La vieja friendo huevos.

▶ La Inagua de Vulsano.



# 10 La población. Las tensiones demográficas

## Evolución y distribución de la población mundial

### 1.5 La población mundial y su evolución

La **población** de un territorio es el conjunto de personas que lo habita. De su estudio se ocupan ciencias como la demografía y la geografía, se realiza a través de los censos, o recuentos periódicos de población. En 2010, la Tierra tenía una población de 6 892 millones de habitantes.

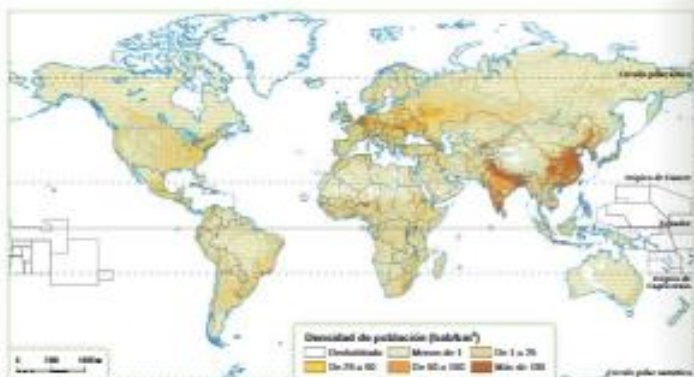
La **evolución de la población mundial** no ha sido constante. Durante millones de años aumentó lentamente y de forma irregular; entre 1750 y 1950 se incrementó, especialmente en Europa y América del Norte, y, desde 1950, los mayores incrementos se han producido en Asia, África y América del Sur.

### 1.6 ¿Cómo se distribuye la población?

La distribución de la población en el espacio se analiza a través de la densidad de población, que se obtiene dividiendo la población total de un territorio por su superficie, y se expresa en  $\text{km}^2$ . La densidad de población de la Tierra en 2010 era de 51  $\text{hab}/\text{km}^2$ .

- Los  **focos de concentración**  de la población mundial son el sur y sureste de Asia, Europa Occidental y la costa atlántica de Estados Unidos.
- Los  **focos de despoblamiento**  demográfico coinciden con las zonas frías (polos y alta montaña), los desiertos cálidos (Sáhara, Kalahari, Atacama) y las selvas ecuatoriales (Amazonas, Congo).

El reparto desigual de la población en la Tierra se explica por factores físicos y humanos. Los  **factores físicos**  más influyentes son el relieve, el clima y los suelos. Así, la población prefiere las llanuras, los climas templados y los suelos fértiles. Los  **factores humanos**  principales son la antigüedad del poblamiento y la economía.



## Tareas para progresar

### ▼ Localizar información en el espacio

- 1 Sobre el siguiente mapamundi colorea en rojo los focos de concentración de la población y, en azul, los focos de despoblamiento demográfico.



### ▼ Usar el vocabulario

- 2 Define los conceptos de población y densidad de población.

.....  
.....

- 3 Calcula la densidad de población de la Unión Europea a partir de estos datos:

- a) Habitantes: 501 000 000
- b) Superficie ( $\text{km}^2$ ): 4 422 773

### ▼ Relacionar informaciones

- 4 Sitúa cada factor en su lugar correspondiente:

- a) economía; b) relieve; c) suelos; d) antigüedad del poblamiento; e) clima.

Físicos	Humanos

### ▼ Obtener información

- 5 Completa los siguientes datos numéricos.

- a) La población de la Tierra en 2010 era de ..... de habitantes.
- b) La densidad de población de la Tierra en 2010 era de .....

### ▼ Organizar la información

- 6 Completa el siguiente cuadro sobre la evolución de la población.

Hasta 1750	
1750-1950	
1950-2010	


## Conceptos demográficos básicos

### 2.1 Los movimientos naturales de la población

El **movimiento natural** es el aumento o la disminución de la población de un lugar por causas naturales, e incluye los nacimientos y las defunciones.

La **natalidad** es el número de nacimientos habidos en una población durante un año. Se mide mediante tasas, como la **tasa de natalidad** y el índice de **fecundidad** o media de hijos por mujer. La **mortalidad** es el número de defunciones ocurridas en una población en un año. Se mide mediante la **tasa de mortalidad** y la **esperanza de vida**, o duración media de la vida.

El balance entre el número de nacimientos y el de defunciones es el **crecimiento natural** o vegetativo.



### 2.2 Los movimientos migratorios

Los **movimientos migratorios** son desplazamientos de población en el espacio debido a causas muy variadas: **naturales**, **políticas** y, sobre todo, **económicas**. La **emigración** es la salida de población de un lugar; y la **inmigración** es la llegada de personas a un lugar. El balance entre la inmigración y la emigración es el **saldo migratorio**.

La **clasificación de las migraciones** más usual es aquella que diferencia, según el lugar de destino, entre migraciones interiores y exteriores.

### 2.3 La composición de la población

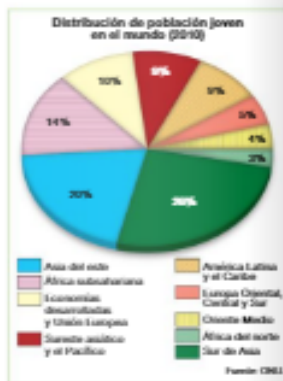
La **composición** o estructura interna de la población es el conjunto de características que la definen.

- La **composición por edad** diferencia tres grandes grupos de edades: jóvenes (0-14 años), adultos (15-64 años) y ancianos (65 años y más). La **composición por sexo** es la relación entre el número de hombres y mujeres de una población.

La composición por edad y sexo se representa por medio de un gráfico denominado **pirámide de población**.

- La **actividad de la población** permite distinguir entre **población activa**, que desempeña un trabajo remunerado (población ocupada) o lo busca (parados); y la **población inactiva**, que no realiza un trabajo remunerado (estudiantes, pensionistas y personas dedicadas a las tareas del hogar).

La población activa se suele encuadrar en tres sectores económicos: el **sector primario**, dedicado a obtener recursos naturales (agricultura, ganadería, explotación forestal y pesca); el **sector secundario**, que transforma los recursos (industria, construcción), y el **sector terciario**, que proporciona servicios.



## Tareas para progresar

### ▼ Usar el vocabulario

7 Define estos conceptos demográficos:

a) Movimiento natural.

b) Movimientos migratorios.

c) Composición de la población.

### ▼ Relacionar informaciones

8 Escribe junto a cada definición el concepto al que hace referencia.

a) Balance entre el número de nacimientos y defunciones. ....

b) Número de nacimientos ocurridos en una población durante un año. ....

c) Número de defunciones ocurridas en una población en un año. ....

d) Balance entre la emigración y la inmigración.

9 Relaciona cada término superior con uno inferior:

- Población que desempeña un trabajo
- Población que busca un trabajo
- Población que no realiza una actividad remunerada

- Población inactiva
- Población ocupada
- Población parada

### ▼ Obtener información

10 Clasifica cada actividad en la casilla que le corresponda: servicios, agricultura, industria, ganadería, construcción, explotación forestal y pesca.

Primario	Secundario	Terciario

11 Escribe al lado de cada grupo las edades que comprende.

a) Jóvenes: .....

b) Adultos: .....

c) Ancianos: .....

### ▼ Obtener información

12 Analiza con detenimiento la imagen inferior. Después, redacta un texto breve clasificando el movimiento migratorio que representa e indicando sus posibles causas.



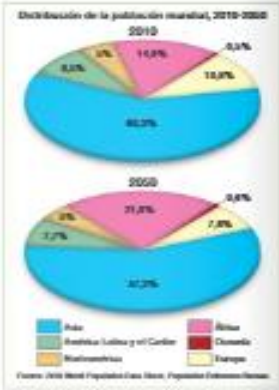
## Las tensiones demográficas

En la actualidad, y en el futuro próximo, la población mundial sufrirá tensiones debido al elevado crecimiento demográfico, a las migraciones masivas y a la tendencia al envejecimiento.

### El elevado crecimiento de la población

La ONU calcula que, en 2050, el mundo alcanzará los 9150 millones de personas. De ellas, el 86% se concentrará en países subdesarrollados.

Los **problemas** principales que planteará esta situación serán la creciente presión sobre los recursos naturales (tierra, bosques, minerales, alimentos, fuentes de energía) y la imposibilidad de alcanzar el desarrollo con tan elevado crecimiento. Frente a estos problemas, se ha aceptado internacionalmente la necesidad de alcanzar un **desarrollo sostenible**; y la mayoría de los países subdesarrollados ha adoptado políticas de control de la natalidad.



### Las migraciones masivas actuales

En la actualidad, las migraciones han adquirido una dimensión mundial, alcanzando los 213 millones de migrantes en 2010 y extendiéndose por un número creciente de países.

Para evitar los **problemas** ocasionados por la fuerte inmigración, los países desarrollados receptores tratan de frenar las entradas clandestinas y promueven la integración de los inmigrantes. Los países subdesarrollados emisores, por su parte, procuran mejorar su situación económica y luchar contra las mafias que controlan la inmigración clandestina.

### El envejecimiento de la población

En 2050 la estructura por edad de la Tierra estará envejecida. Este hecho será el resultado de la agudización del envejecimiento de los países desarrollados y del envejecimiento demográfico de los actuales países subdesarrollados, debido a la consolidación del descenso de la natalidad y al aumento de la esperanza de vida.



## Tareas para progresar

### Usar el vocabulario

13 Busca en el vocabulario el concepto desarrollo sostenible y anota su significado:

.....

.....

.....

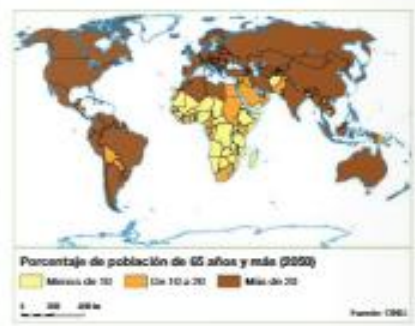
### Relacionar informaciones

14 Indica si las siguientes frases son verdaderas (V) o falsas (F).

- a) Un problema derivado del elevado crecimiento de la población será la presión sobre los recursos.
- b) En 2050, el 86% de la población se concentrará en los países desarrollados.
- c) En 2050 se agudizará el envejecimiento en los países desarrollados.

### Comprender el espacio

16 Observa el mapa inferior y, con ayuda de un atlas, nombra cinco países que tendrán más de un 20% de población mayor de 60 años en 2050.



.....

.....

.....

### Interpretar el lenguaje cartográfico

15 A partir del mapa de la página anterior, cita cinco regiones o países receptores de grandes cantidades de emigrantes, y cinco de las principales regiones de salida de emigrantes.

Regiones y países receptores	Regiones de salida

### Producir textos

17 Redacta un texto breve mencionando las medidas que toman los países para evitar los problemas ocasionados por la fuerte inmigración.

.....

.....

.....

### Organizar la información

18 Completa este cuadro sobre los problemas y soluciones del crecimiento de la población mundial.

Problemas	Soluciones

# La población española

## 4.1 Evolución y distribución en el territorio

La **evolución** de la población española se ha caracterizado por el crecimiento lento hasta 1900. Desde entonces, y hasta 1980, el ritmo se aceleró, para descender desde esa fecha a causa de la reducción de la natalidad. Desde 2001, la llegada masiva de inmigrantes ha provocado que la tasa de crecimiento tienda a elevarse. En 2010, la población total de España era de 46,9 millones de personas.

La **distribución** de la población sobre el territorio es desigual. Las principales concentraciones se localizan en Madrid, la periferia peninsular, Baleares y Canarias. Las zonas más despobladas coinciden con el interior peninsular (salvo Madrid) y con las áreas de montaña.

## 4.2 Los movimientos de la población

La **tasa de natalidad** es, en la actualidad, muy reducida (10,73‰ en 2009), aunque en los últimos años tiende a elevarse gracias a la inmigración. La **tasa de mortalidad** también es baja (8,35‰). Por tanto, el **crecimiento natural** es bajo (2,38‰).

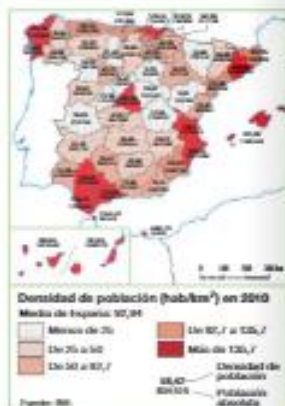
Las **migraciones**, interiores y exteriores, han evolucionado a lo largo del tiempo.

- **Hasta 1975**, España fue un país emigratorio. La emigración interior más importante fue el **éxodo rural**, que tuvo lugar entre las áreas agrarias y las ciudades industrializadas y áreas turísticas costeras. La emigración exterior se dirigió primero a América Latina y, más tarde, a Europa Occidental, finalizando con la crisis de 1975.
- **Desde 1995**, España es un país inmigratorio, y alberga a extranjeros procedentes de Europa y de los países en desarrollo de América Latina, África y Asia.

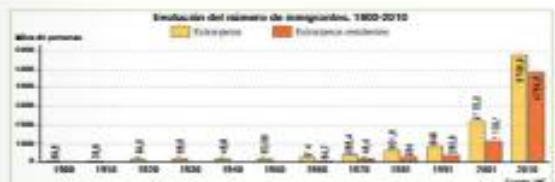
## 4.3 La composición de la población

La **estructura por edad** se encuentra envejecida, debido a las bajas tasas de natalidad y a la alta esperanza de vida. La **estructura por sexo** muestra un predominio de las mujeres en el conjunto de la población. La **pirámide de edades** es la propia de un país desarrollado.

La **estructura económica** tiene una tasa de actividad en crecimiento, debido al incremento del trabajo femenino fuera del hogar. La población ocupada en el sector primario es escasa (4,2% en 2009); la del sector secundario desciende (24,7%), y la del terciario aumenta (71,1%).



La edad de la población (2010)	
Jóvenes (0-14 años)	14,71%
Adultos (15-64 años)	63,4%
Ancianos (65 y +)	16,89%



## Tareas para progresar

### Localizar información en el espacio

19 En el siguiente mapa, colorea de rojo las comunidades autónomas con mayor concentración de población, y de azul las más despobladas.



### Comprender información gráfica

22 A partir de la pirámide de población de la página anterior, responde a las siguientes cuestiones.

- ¿Qué grupo de edad cuenta con mayor número de efectivos?
- A partir de los 65 años, ¿qué sexo predomina, los hombres o las mujeres?
- ¿Cómo es el conjunto de la población española: joven, adulta o anciana?

### Producir textos

23 ¿Crees que la inmigración es positiva o negativa? Redacta un texto breve argumentando tu respuesta.

### Resolver problemas

20 Si España tenía en 1900 una población de 18.600.000 habitantes, y en 2010 tenía 46.900.000 habitantes, ¿en cuántos habitantes ha aumentado la población entre ambas fechas?

### Obtener información

21 Completa el cuadro con las características de los movimientos migratorios.

Migraciones interiores	Migraciones exteriores

### Organizar la información

24 Completa las siguientes frases.

- La tasa de natalidad es ..... aunque se ha elevado por la .....
- La tasa de mortalidad es ..... y crece ligeramente por el ..... de la población.
- El crecimiento natural es .....

# 1 Las sociedades actuales y sus diferencias

## 1 Sociedad, civilizaciones y culturas

### 1.1 Elementos y evolución de las sociedades

La **sociedad** es un grupo organizado de personas, que vive en un mismo espacio geográfico y comparte una organización de la vida que le identifica y distingue de los demás grupos.

Los elementos que diferencian a unas sociedades de otras son la cultura, la estratificación social, la economía y la política. Estos elementos han cambiado con el tiempo, lo que permite distinguir tres tipos:

- Las **sociedades tradicionales**, o preindustriales, se desarrollaron desde la prehistoria hasta la Revolución Industrial (1780).
- La **sociedad industrial** surgió hacia 1780 en Europa Occidental con la Revolución Industrial. Durante los siglos XIX y XX se extendió, gracias a la colonización, por otras áreas y regiones de la Tierra.
- La **sociedad posindustrial**, o de la información, surgió hacia 1970, con la revolución informática y de las telecomunicaciones.

### 1.2 Las sociedades actuales

Las sociedades actuales se organizan en cuatro grandes áreas con rasgos culturales comunes, que se denominan **civilizaciones**: la occidental, la musulmana, la del África Negra y la oriental.

A su vez, las civilizaciones suelen dividirse en unidades culturales menores. Es el caso, por ejemplo, de la hispana y anglosajona, en la civilización occidental; y de la china y la india, en la oriental.



► Sociedad tradicional o preindustrial.



► Sociedad industrial.



► Sociedad posindustrial o de la información.

## Tareas para progresar

### ▼ Usar el vocabulario

1 Define el término **sociedad**.

.....

.....

.....

### ▼ Comprender la realidad social

2 ¿Qué tres tipos de sociedades existen?

.....

.....

.....

3 Cita los elementos que diferencian unas sociedades de otras.

.....

.....

.....

4 ¿Cuáles son las cuatro grandes civilizaciones?

.....

.....

.....

5 Nombra algunas culturas actuales.

.....

.....

.....

### ▼ Relacionar informaciones

6 Relaciona cada característica con una sociedad:

- a) Desde la prehistoria hasta la Revolución Industrial; b) se extendió gracias a la colonización; c) revolución informática y de las telecomunicaciones; d) Revolución Industrial; e) sociedad de la información; f) sociedades preindustriales.

Sociedades tradicionales	Sociedad industrial	Sociedad posindustrial

### ▼ Obtener y localizar información

7 A partir de la información del mapa, y con ayuda de un atlas, señala, al menos, cinco países de cada civilización:

a) Occidental: .....

b) Musulmana: .....

c) África Negra: .....

d) Oriental: .....

### ▼ Organizar la información

8 Completa el siguiente cuadro sobre la sociedad y las civilizaciones.

Elementos de las sociedades	
Tipos de sociedades	
Civilizaciones actuales	

## Clases sociales y desigualdades

### 2.1 Las clases sociales

Las sociedades actuales se organizan en diferentes grupos sociales, integrados por personas con estilos y niveles de vida similares, que se jerarquizan u ordenan según su importancia.

En la sociedad de clases actual, la base para establecer estas diferencias es el mérito personal, medido por la riqueza. En ella, cada clase está constituida por un conjunto de personas que tienen intereses sociales y económicos comunes, y se diferencian entre sí por su formación, ocupación, salario y condiciones de trabajo.

### 2.2 Las desigualdades socioeconómicas

En nuestros días, la **estratificación social** o división en clases es compleja, siendo muy diferente según el nivel de desarrollo de los países:

- En los **países desarrollados**, las desigualdades sociales son poco marcadas, y la sociedad suele organizarse en tres grupos principales:
  - Una clase alta reducida, compuesta por personas muy ricas: grandes empresarios y propietarios, directivos, algunos profesionales, etc.
  - Una clase media, muy numerosa, formada por pequeños y medianos empresarios, profesionales de nivel superior (médicos, abogados) y medio (oficinistas).
  - Una clase obrera, también numerosa, integrada por obreros cualificados (electricistas, fontaneros, etc.) y obreros no cualificados.
- En los **países subdesarrollados**, las desigualdades sociales están muy marcadas. La sociedad, por lo general, consta de una élite gobernante y minoritaria, que controla la riqueza y el poder; y el pueblo, integrado por una mayoría de campesinos y de población urbana marginal que vive en la pobreza y apenas participa en el gobierno.

### 2.3 Cambio y conflicto social

Las sociedades actuales son dinámicas, ya que están cambiando continuamente.

Algunos cambios son lentos. Otros, por el contrario, se producen de forma rápida y originan conflictos sociales, o enfrentamientos más o menos violentos entre dos o más grupos sociales.



1. La **clase alta**, muy reducida, goza de gran riqueza y poder. Sus miembros, conocidos como «los ricos», tan solo representan el 1 o el 2% de la población total.
2. La **clase media** engloba a una parte importante de la población que tiene ocupaciones diferentes; por eso, a veces se habla de «clases medias». Sus niveles son imprecisos aunque, en general, suele incluir a los trabajadores no manuales o «de cuello blanco».
3. La **clase obrera** está formada por los trabajadores manuales «de cuello azul». En la actualidad, los estratos inferiores de la clase media y los superiores de la clase obrera –obreras especializadas– presentan niveles de vida semejantes.

© SHUTTERSTOCK, S.A. - Desigualdad y riqueza 27 - BBO, Internet - Fotocorresponsables

## Tareas para progresar

### ▼ Usar el vocabulario

9 Escribe en el recuadro el concepto al que se refiere cada definición:

a) Personas con niveles de vida similares.

b) Se diferencian entre sí por su formación, ocupación, salario y condiciones de vida.

### ▼ Entender la sociedad actual

10 ¿Qué elemento se toma como base para establecer las diferencias en la sociedad actual?

11 ¿Cuáles son los grupos sociales principales de los países desarrollados?

12 ¿Qué son los conflictos sociales?

### ▼ Relacionar informaciones

13 Sitúa en el lugar correspondiente: a) clase alta, b) clase baja, c) pueblo, d) clase obrera, e) élite gobernante, f) clase media.

Países desarrollados	Países subdesarrollados

### ▼ Obtener información

14 Completa la definición con el término correcto:

a) Clase social reducida compuesta por personas muy ricas.

b) Clase social numerosa formada por profesionales y empresarios.

c) Clase social numerosa integrada por obreros.

d) Clase formada por campesinos y población urbana marginal.

### ▼ Producir textos

15 Analiza la imagen inferior y contesta:



a) ¿Qué puede representar?

b) ¿Con qué países la relacionarías y por qué?

### ▼ Organizar la información

16 Completa estas pirámides sociales.



# 3 La sociedad europea y española

## 3.1 Características de la sociedad

Europa y España son **sociedades posindustriales**, cuyos habitantes trabajan en su mayoría en el sector servicios y disfrutan de un elevado nivel de bienestar. No obstante, persiste la pobreza.

Son, además, una **sociedad de clases**. La clase alta es reducida (5%). La clase media comprende a la mayoría de la población, y la clase trabajadora dispone de más poder adquisitivo que en el pasado.

Son **sociedades democráticas**, ya que la ciudadanía tiene garantizados sus derechos y la participación política.

## 3.2 La pluralidad lingüística y religiosa

Las **lenguas europeas** actuales pertenecen a distintos grupos: en Europa Occidental predominan las lenguas románicas y germánicas, y en Europa Oriental, las lenguas eslavas.

Las **religiones** practicadas por los europeos son muy diversas. El cristianismo es la predominante, aunque presenta varias ramas: **católicos**, **protestantes** y **ortodoxos**. También hay ateos, que no creen en la religión; agnósticos, que piensan que el ser humano no puede llegar a saber si Dios existe o no; musulmanes y otras religiones más minoritarias.



## 3.3 La multiculturalidad

En la actualidad, la diversidad cultural europea y española se ha intensificado, debido a la **inmigración** de población no europea. Con ella se ha incrementado la **multiculturalidad**, o coexistencia de distintas culturas. Este hecho ha supuesto un enriquecimiento cultural; pero también ocasiona problemas como la xenofobia, una actitud hostil y de rechazo hacia los inmigrantes.

## Tareas para progresar

### ▼ Usar el vocabulario

**17** Define el término multiculturalidad.  
 .....  
 .....

### ▼ Entender la sociedad actual

**18** Cita tres características que definan las sociedades europea y española.  
 .....  
 .....

### ▼ Comprender el espacio

**19** A partir de los mapas de la página anterior, cita:  
 – Tres países de religión católica, tres ortodoxos y tres protestantes.  
 – Dos países de lengua germánica, dos de lengua eslava y dos de lengua románica.

En caso necesario, ayúdate de un atlas.

Religiones		
Católicos	Ortodoxos	Protestantes

Lenguas		
Germánica	Eslava	Románica

### ▼ Relacionar informaciones

- 20** Escribe, junto a cada frase, si es verdadera (V) o falsa (F):
- a) La sociedad europea es preindustrial.
  - b) La sociedad española es una sociedad de clases.
  - c) En las sociedades europea y española los ciudadanos no tienen derechos.
  - d) En la actualidad, la diversidad cultural europea y española se ha intensificado.
  - e) La religión cristiana es la predominante en Europa.

### ▼ Producir textos

**21** Contesta, de forma breve, a la siguiente pregunta:  
 ¿En tu opinión, la multiculturalidad es positiva o negativa?  
 .....  
 .....

### ▼ Organizar información

- 22** Completa las siguientes frases:
- a) En la actualidad, Europa y España son sociedades de ..... y ....., con un elevado .....
  - b) La diversidad cultural europea y española se ha ....., debido a la ..... de población no europea.
  - c) Con la ..... se ha incrementado la multiculturalidad, o ..... de distintas culturas.

## Sociedad y Estado

### 4.1 La organización política

La **organización política** es la forma en la que las sociedades distribuyen el poder. Este suele ejercerse en el marco de un **Estado**, es decir, de una organización con autoridad sobre los habitantes de un territorio delimitado por unas fronteras.

### 4.2 El Estado español

El Estado español es antiguo, pues en su forma moderna surgió a finales del siglo xv; tiene un tamaño medio; posee una población de 46,9 millones de personas (año 2010), un predominio de las actividades económicas terciarias y un nivel de desarrollo alto. El Estado español se rige por un conjunto de leyes y normas recogidos en la **Constitución de 1978**.

### 4.3 La organización política y territorial del Estado

Según su **organización política**, el Estado español es monárquico, ya que el jefe del Estado es un rey hereditario; y democrático, pues se admiten varios partidos políticos y la ciudadanía participa en el gobierno a través de representantes elegidos por votación.

Al ser España un país democrático, los tres poderes del Estado están separados. Estos residen en el Parlamento (poder legislativo), en el Gobierno (poder ejecutivo) y en los Tribunales de Justicia (poder judicial). La **organización territorial** del Estado español es de tipo descentralizado, dado que el poder se reparte entre tres divisiones territoriales:

- Los **municipios**, formados por uno o varios núcleos de población y el territorio dependiente de ellos, que se gobiernan por alcaldes y concejales.
- Las **provincias**, formadas por la agrupación de varios municipios, que se gobiernan por Diputaciones provinciales.
- Las **comunidades autónomas**, formadas por una o varias provincias, gobernadas por un presidente y un gobierno regional o autónomo.



▶ En la Constitución se establecen, entre otros aspectos, la organización política y territorial del Estado, los derechos y deberes de los españoles, y la bandera, un símbolo que diferencia a España de los otros estados de la Tierra.



▶ La organización territorial del Estado español.

## Tareas para progresar

### ▼ Comprender textos e informaciones

**23** Escribe el concepto al que se refieren las siguientes definiciones:

a) Forma en la que las sociedades distribuyen el poder.

b) Organización con autoridad sobre los habitantes de un territorio delimitado por unas fronteras.

### ▼ Entender la sociedad actual

**24** Demuestra tu comprensión de la sociedad española contestando a estas preguntas:

a) ¿Cuándo surgió la forma moderna del Estado español?

b) ¿Dónde están recogidas las leyes y normas del Estado español?

c) ¿Que actividades económicas predominan en España?

d) ¿Cuál es el grado de desarrollo del Estado español?

e) ¿Por qué decimos que el Estado español es monárquico y democrático?

### ▼ Relacionar informaciones

**25** Relaciona con un poder del Estado español: a) Gobierno; b) Tribunales de Justicia; c) Parlamento.

Legislativo	Ejecutivo	Judicial

**26** Relaciona los términos de cada grupo:

- Municipio
  - Provincia
  - Comunidad autónoma
- A. Una o varias provincias  
B. Varios núcleos de población  
C. Agrupación de municipios

### ▼ Interpretar el lenguaje cartográfico

**27** Contesta a partir de la información del mapa:

a) ¿Cuántas comunidades autónomas componen el Estado español?

b) ¿Cuántas provincias tiene la Comunidad Autónoma de Castilla y León?

c) ¿Qué comunidades están formadas por una sola provincia?

### ▼ Organizar la información

**28** Completa los espacios en blanco:

El Estado español es....., ya que el.....  
.....es un.....



# 12 El poblamiento humano. Las ciudades

## 1 El poblamiento rural

El **poblamiento** es la forma de ocupación de un territorio por los seres humanos. Hay dos tipos básicos, el rural y el urbano, diferenciados por el tamaño y la distribución de los asentamientos en el espacio.

### 1.1 El poblamiento rural y sus formas

El poblamiento rural es propio de los espacios agrarios. Su distribución responde a dos formas básicas:

- En el **poblamiento disperso**, las edificaciones rurales (casas, granjas, caseríos) se disponen aisladas unas de otras y rodeadas por los campos de cultivo, los prados o los bosques. Esta forma de poblamiento predomina en los Países Nuevos (Estados Unidos, Canadá, Australia) y en la Europa atlántica.
- En el **poblamiento concentrado**, las edificaciones se sitúan unas junto a otras formando poblados, aldeas, pueblos o villas, separados de las tierras de labor. Este tipo de poblamiento predomina en el resto de Europa, en Asia y en el África subsahariana.



### 1.2 El hábitat rural

El **hábitat rural** es el conjunto de edificios existentes en el campo, y su expresión más concreta es la casa rural o edificio ocupado por el agricultor o ganadero y su familia.

Las edificaciones rurales suelen responder a dos tipos básicos: la **casa compacta**, donde la vivienda y los servicios (establo, cochera) se sitúan bajo un mismo techo; y la **casa disociada**, donde los edificios están separados (uno para vivir; otro para los animales) y se disponen en torno a un patio abierto o cerrado.

Las formas, las dimensiones y los **materiales** de construcción de las casas rurales son muy variadas, ya que dependen del medio físico y de las tradiciones locales. Así, suelen ser de madera en las áreas donde abundan los bosques; de piedra, en las zonas montañosas; y de barro y paja en los terrenos arcillosos.

1. Poblamiento rural disperso.
2. Poblamiento rural concentrado lineal.
3. Poblamiento rural concentrado apilado.

## Tareas para progresar

### ▼ Obtener y localizar información

- 1 Colorea de rojo las zonas donde predomina el poblamiento disperso, y de azul aquellas donde predomina el concentrado.



### ▼ Usar el vocabulario

- 2 Define el término **poblamiento**.

.....

.....

.....

### ▼ Comprender textos e informaciones

- 3 ¿Qué diferencia existe entre los términos **hábitat rural** y **casa rural**?



.....

.....

.....

### ▼ Obtener información

- 4 Escribe al lado de cada definición su concepto:
  - a) La vivienda y los servicios se sitúan bajo el mismo techo .....
  - b) Los edificios están separados y se disponen en torno a un patio.....

### ▼ Relacionar informaciones

- 5 Escribe cada característica en su lugar correspondiente: a) casas aisladas unas de otras; b) edificaciones separadas de las tierras de labor; c) es predominante en los países nuevos; d) predomina en Europa, Asia y África subsahariana.

Poblamiento disperso	Poblamiento concentrado

- 6 Relaciona cada término de ambos grupos:

- A. Casas de madera  
 B. Casas de piedra  
 C. Casas de barro  
 1. Terrenos arcillosos  
 2. Montañas  
 3. Bosques

### ▼ Organizar la información

- 7 Completa los espacios en blanco:

El ..... es la forma de ocupación de un territorio por los seres humanos. Existen dos tipos básicos, el ..... y el ....., diferenciados por el ..... y la ..... de los asentamientos en el espacio.

## 2 El poblamiento urbano

El poblamiento urbano está integrado por las **ciudades**. Estas son núcleos de población que cuentan con numerosos habitantes, alta densidad de población y edificación; predominio de las actividades industriales y de servicios, e influencia sobre su entorno.

### 2.1 El plano urbano

El **plano** de una ciudad es la representación gráfica de los espacios libres (calles, plazas, parques y jardines) y construidos (viviendas, industrias, edificios públicos, etc.).

Los tipos de **planos urbanos** responden a tres modelos:

- **Irregular**, con calles desordenadas y estrechas dispuestas de manera anárquica a partir de un núcleo central.
- **En cuadrícula**, formado por calles rectilíneas que se cortan en ángulo recto.
- **Radiocéntrico**, con calles radiales cortadas por otras transversales que forman anillos en torno al centro.



▶ Plano irregular



▶ Plano en cuadrícula



▶ Plano radiocéntrico

### 2.2 Las funciones urbanas

Las **funciones urbanas** son las actividades socioeconómicas que desempeñan las ciudades.

Estas funciones pueden ser **económicas** (industrial y de servicios), **político-administrativas** (Washington, Brasilia); **militares** o de defensa del territorio; **culturales** (Oxford, Bolonia); **religiosas** (Jerusalén, el Vaticano, La Meca); y de **ocio, espectáculos o turismo** (Las Vegas, Venecia). En la actualidad, la mayoría de las ciudades desempeñan varias funciones.

### 2.3 Las funciones exteriores.

#### La jerarquía urbana

Las ciudades se encuentran ordenadas según la importancia de sus funciones y la amplitud de su área de influencia, en cuatro niveles:

- Las **metrópolis internacionales** concentran las funciones más avanzadas y su área de influencia es mundial. Es el caso de Nueva York, Londres, Tokio y París.
- Las **metrópolis nacionales** concentran funciones avanzadas a nivel nacional, y extienden su área de influencia a todo el país. Por ejemplo, Berlín en Alemania, o Madrid, en España.
- Las **metrópolis regionales** cuentan con funciones menos especializadas, y su influencia es regional. Es el caso de Munich o Milán.
- Las **ciudades medias y pequeñas** desempeñan las funciones de menor nivel, y su área de influencia es subregional o comarcal, caso de Jaén, Avilés, Segovia, etc.

## Tareas para progresar

### ▼ Comprender información gráfica

8 Define, de forma breve, estos conceptos geográficos:

a) Plano: .....

.....

.....

b) Funciones urbanas: .....

.....

### ▼ Producir textos

9 Describe cómo es el plano urbano inferior:



.....

.....

### ▼ Relacionar informaciones

10 Relaciona los conceptos de estas dos columnas:

- |           |                             |
|-----------|-----------------------------|
| A. Jaén   | 1. Metrópolis regional      |
| B. Tokio  | 2. Metrópolis nacional      |
| C. Berlín | 3. Ciudad media             |
| D. Milán  | 4. Metrópolis internacional |

.....

11 Coloca cada característica en su recuadro correspondiente: a) calles desordenadas; b) calles radiales; c) calles rectilíneas; d) calles que se cortan en ángulo recto; e) calles estrechas; f) calles que forman anillos en torno al centro.

Plano irregular	Plano en cuadrícula	Plano radiocéntrico

### ▼ Obtener información

12 Escribe al lado de cada ciudad su función urbana principal:

a) Venecia: .....

b) Brasilia: .....

c) Oxford: .....

d) Jerusalén: .....

### ▼ Organizar información

13 Completa el siguiente cuadro resumen:

Ciudad	Características y ejemplos
Metrópolis internacionales	
Metrópolis nacionales	
Metrópolis regionales	
Ciudades medias y pequeñas	

14 Completa la siguiente frase

Las ciudades se encuentran ordenadas según la importancia de sus ..... y la amplitud de su .....

