

UNIDAD 10: ESPAÑA EN LA UNIÓN EUROPEA.

2ª Parte.

Desarrolle, de manera sintética, uno de los dos temas propuestos (utilice, como máximo, ambas caras de un folio), atendiendo al menos a los siguientes aspectos:

Tema 1: *"Rasgos generales de la población de la Unión Europea"*:

- La distribución espacial de la población.
- Dinámica natural.
- El fenómeno migratorio actual en la Unión Europea.

Tema 2: *"Contrastes climáticos y biogeográficos entre la España mediterránea y la atlántica"*:

- Caracteres comunes y diferenciadores entre las dos regiones.
- Factores naturales que explican dichos contrastes.
- La intervención antrópica y sus repercusiones sobre el medio biogeográfico.

Puntuación máxima: 4 puntos.

Desarrolle de manera sintética uno de los **dos** temas propuestos (utilice, como máximo, ambas caras de un folio), atendiendo al menos a los aspectos que se expresan a continuación del título.

a) "La población de la Unión Europea".

- Diversidad de pueblos y culturas.
- Problemas derivados del envejecimiento demográfico.
- La realidad de la inmigración.

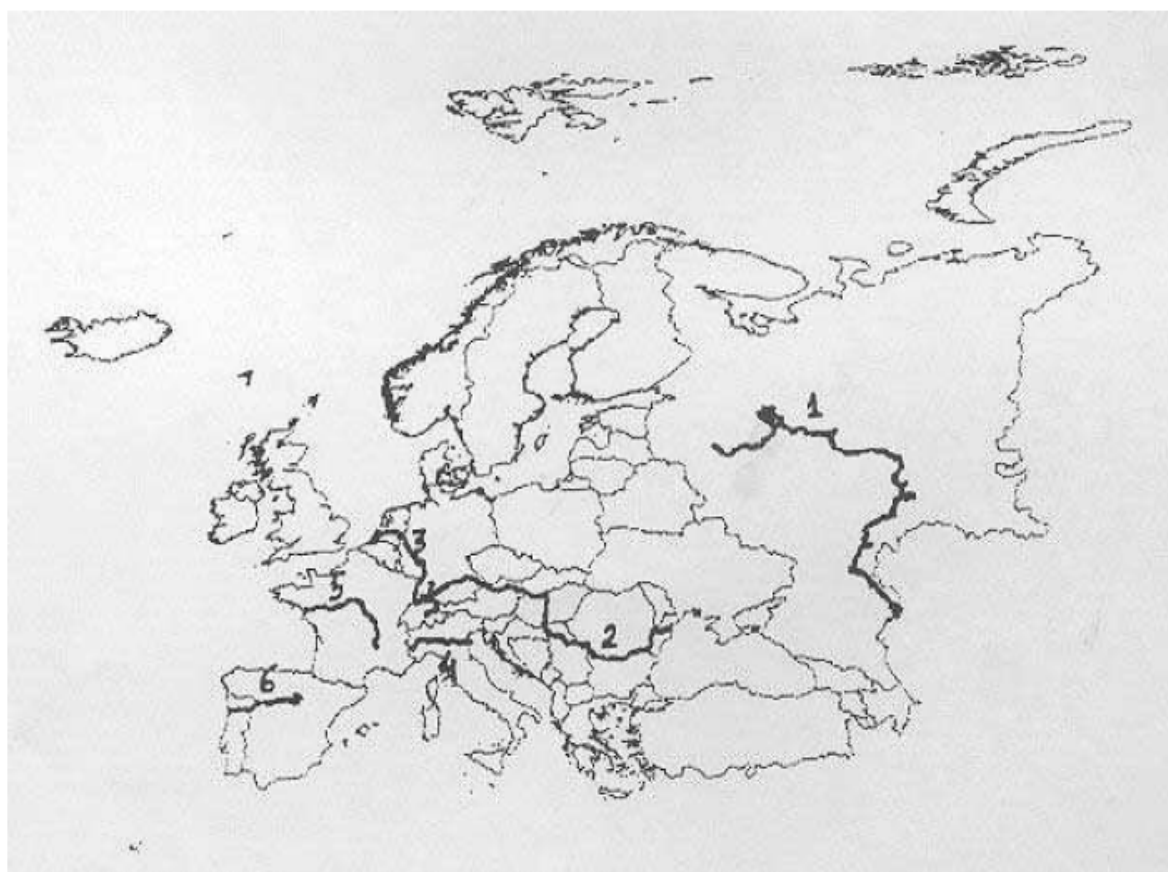
b) "Los desequilibrios regionales en España".

- Diferencias territoriales emanadas del crecimiento real de la población.
- Desigualdades socioeconómicas.
- Las políticas regionales y la Ordenación del Territorio.

Puntuación máxima: 4 puntos.

1.2. A la vista del mapa de Europa adjunto, indique el nombre de los seis ríos que aparecen numerados en el mismo y explique los principales caracteres de los que aparecen representados por los números 3 y 6.

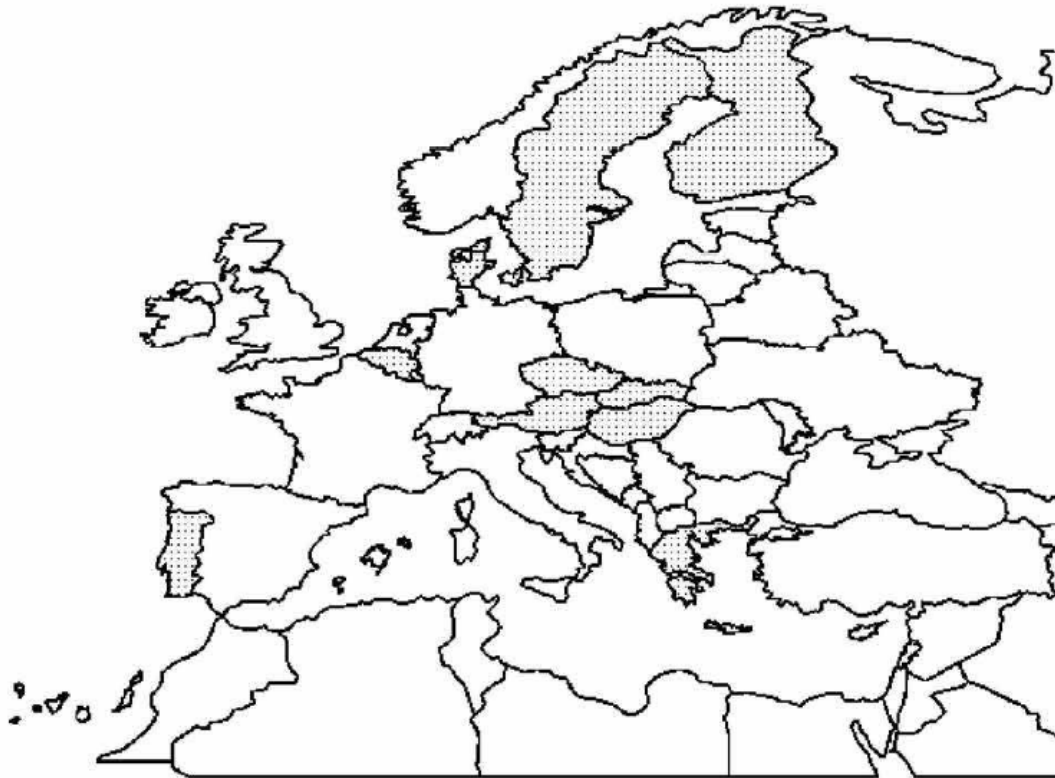
Puntuación máxima: 2 puntos.



4ª Parte

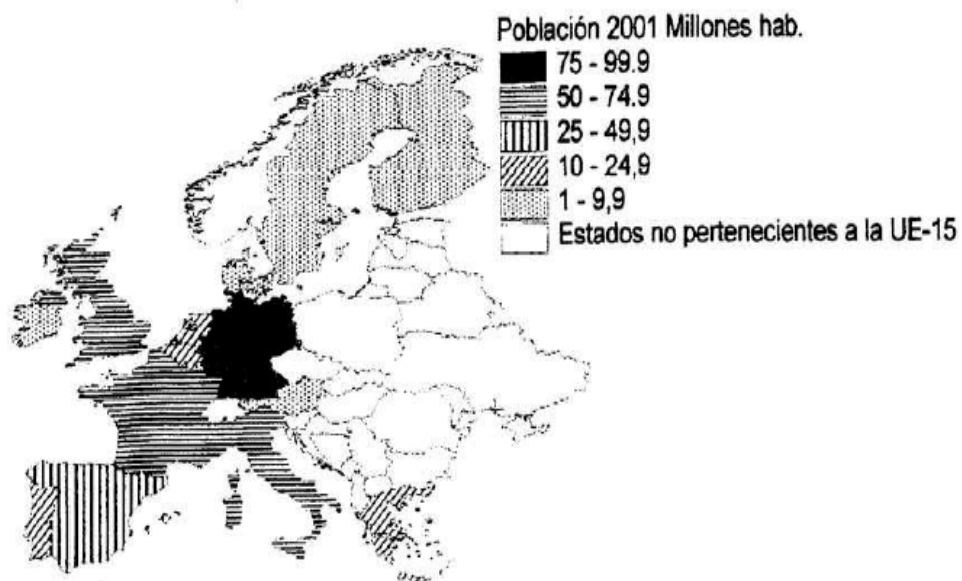
A la vista del mapa adjunto, “países de la Unión Europea cuya población está comprendida entre los cinco y los catorce millones de habitantes, en el 2004”, indique el nombre de los países “tramados” y sus respectivas capitales; señale las razones que explican esta distribución y comente algunas consecuencias emanadas de este hecho.

Puntuación máxima: 2 puntos.



1.2. A partir del mapa adjunto sobre “La población de la Unión Europea en el año 2001”, identifique los estados, además de Luxemburgo, con menos de 25 millones de habitantes, citando la capital de cada uno de ellos. Comente las razones que explican la menor población de dichos estados, en relación con el resto de pertenecientes a la Unión Europea.

Puntuación máxima: 2 puntos.



1.2. A la vista del mapa adjunto, “*P.I.B. por habitante en la Unión Europea, en el año 2001*”, indique qué países superan los 24.000 dólares y cuáles son sus capitales respectivas. Explique igualmente algunas de las causas que inciden en el menor PIB/hab. en los países con menos de 21.000 dólares.

Puntuación máxima: 2 puntos.

