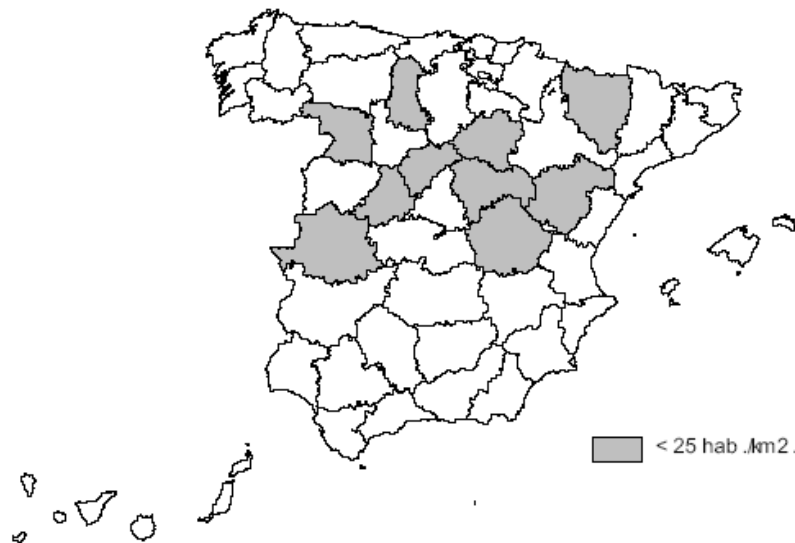


## UNIDAD 4: LA POBLACIÓN ESPAÑOLA.

A la vista del mapa adjunto, “*Provincias con menos de 25 habitantes por km<sup>2</sup>, en 2005*”, indique el nombre de las provincias “tramadas” pertenecientes a dicha categoría; señale las razones que explican esta distribución y comente algunas consecuencias emanadas de este hecho.

*Puntuación máxima: 2 puntos.*



**Comentario del gráfico adjunto:** Realice un comentario del presente gráfico, atendiendo, al menos, a los siguientes aspectos:

- La dinámica de la estructura poblacional en España, desde la perspectiva de su pertenencia al ámbito urbano o rural.
- Explique su evolución, señalando algunas consecuencias emanadas de este hecho.

*Puntuación máxima: 2,5 puntos.*



**Comentario del gráfico adjunto:**

Interprete la presente **pirámide de población**, haciendo especial hincapié en el papel desempeñado por los actuales movimientos migratorios.

*Puntuación máxima: 2,5 puntos.*

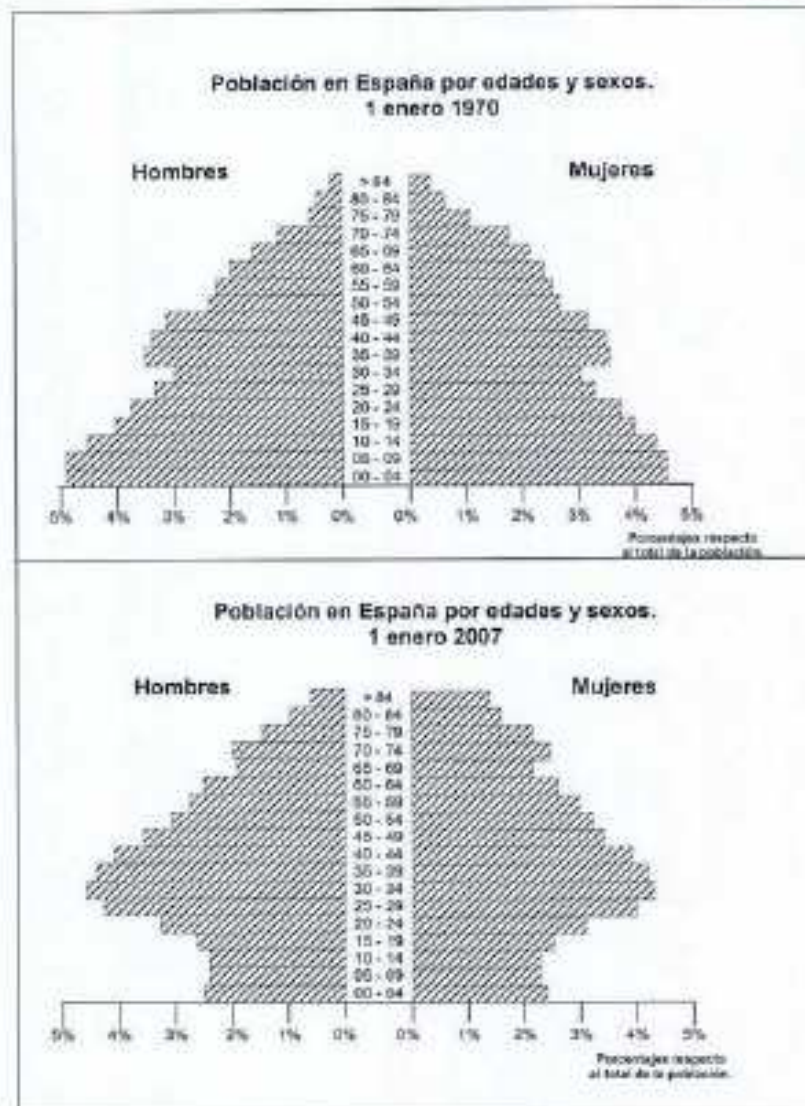


**Nota:** La información se desglosa en nacidos en España y nacidos en el extranjero, por lo que los nacidos en España de madre extranjera están incluidos en el primer grupo y no en el segundo.

**Comentario del gráfico:** Realice un comentario de las pirámides adjuntas, atendiendo, al menos, a los siguientes aspectos:

- Interpretación individualizada de cada una de ellas.
- Cambios en la estructura de la población, por edad y sexo.
- Compare las dos pirámides.

*Puntuación máxima: 2,5 puntos.*

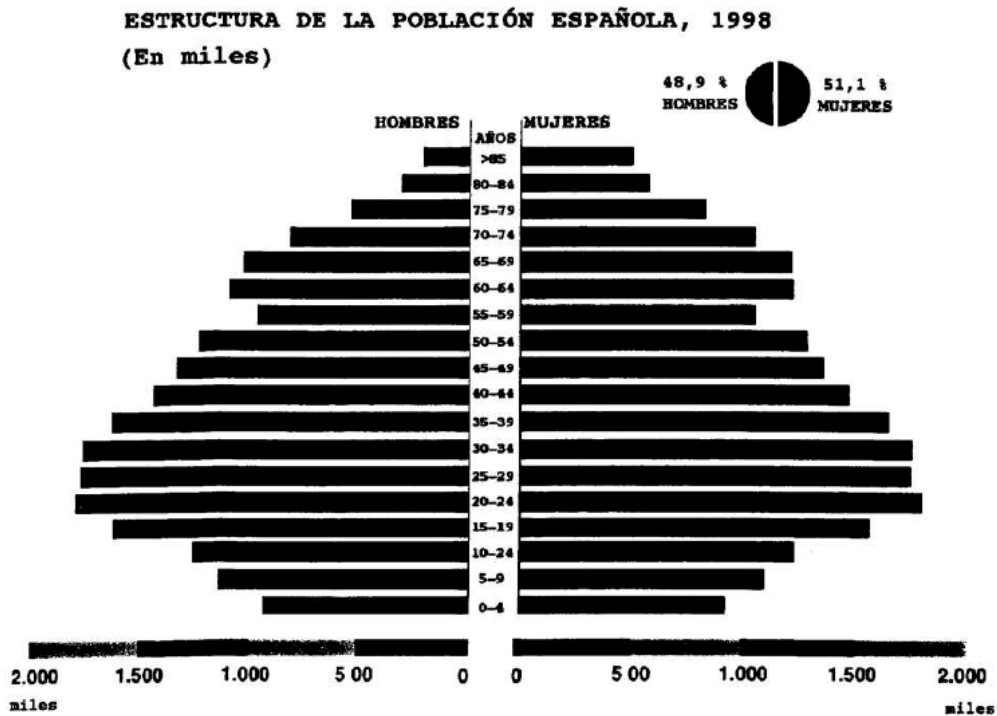


**Comentario del gráfico adjunto:**

Realice un comentario de la pirámide de edades correspondiente a la estructura de la población española en 1998, atendiendo al menos a los siguientes aspectos:

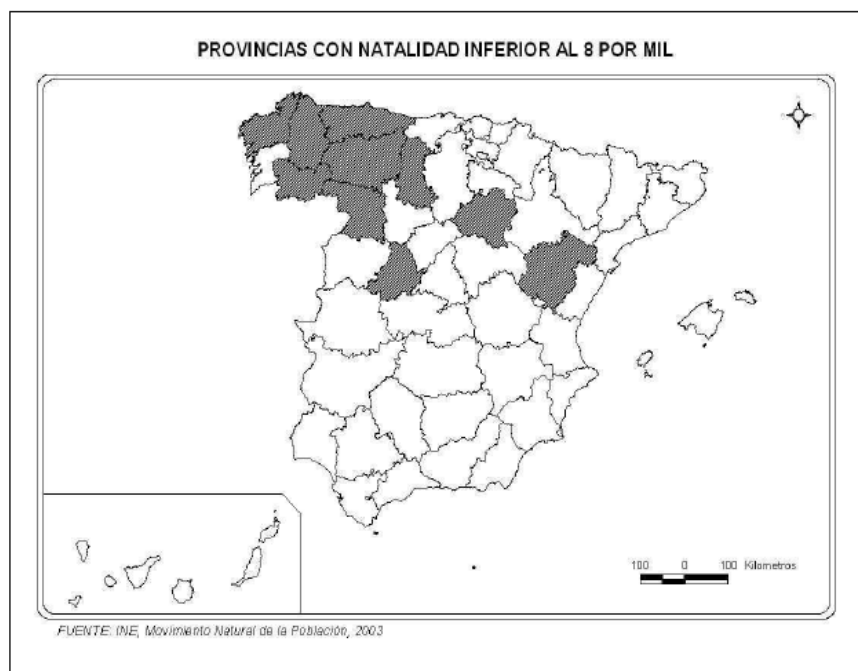
- Descripción y características.
- Aspectos históricos, sociológicos y económicos que explican esta estructura.
- Consecuencias demográficas y económicas de la situación descrita.

*Puntuación máxima: 2,5 puntos.*



A la vista del mapa adjunto, “Provincias con natalidad inferior al 8 por mil, en el año 2002”, indique el nombre de las provincias “tramadas”, pertenecientes a dicha categoría, cartografiadas en el mapa, señale las razones que explican esta distribución y comente algunas consecuencias emanadas de este hecho.

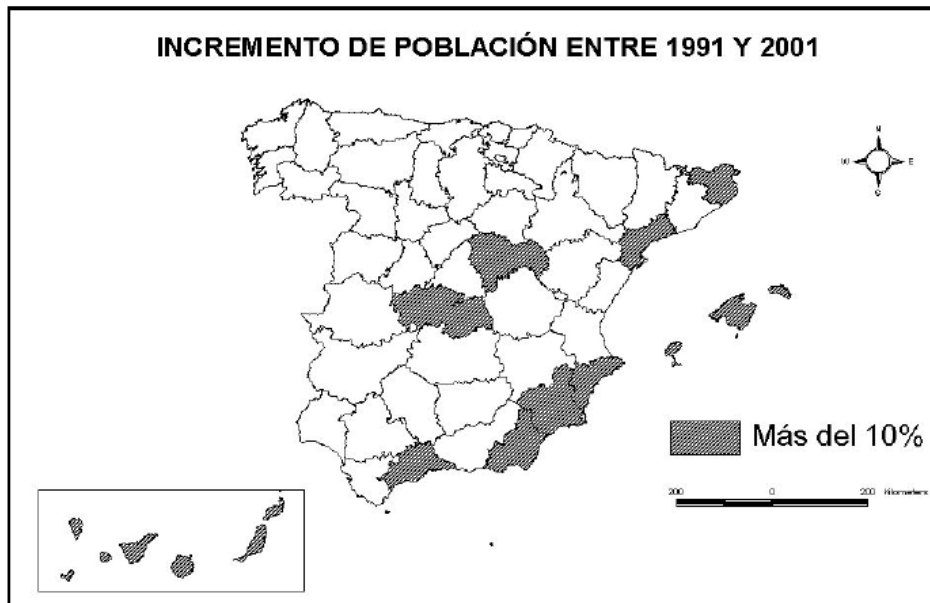
*Puntuación máxima: 2 puntos*





1.2. A la vista del mapa adjunto, “*Provincias con un incremento de población entre 1991 y 2001 superior al 10%*”, indique el nombre de las provincias pertenecientes a dicha categoría, que aparecen cartografiadas en el mapa, y comente las razones que explican dicho incremento.

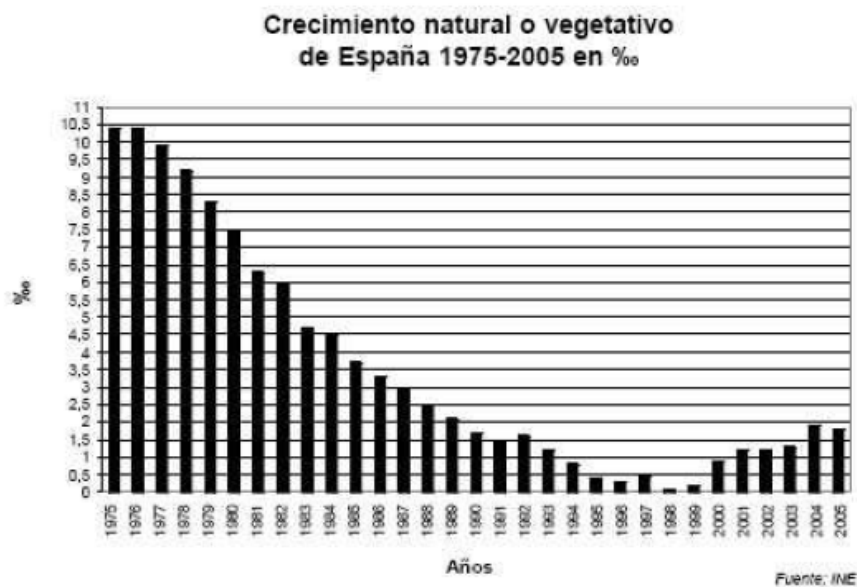
*Puntuación máxima: 2 puntos.*



Comente el gráfico adjunto, “*Crecimiento natural o vegetativo de España, 1975-2005 (en ‰)*”, atendiendo al menos a:

- Evolución del crecimiento natural en los últimos treinta años.
- Razones de esta evolución.
- Consecuencias acaecidas y previsibles.
- Relaciónelo con los movimientos migratorios e inmigratorios.

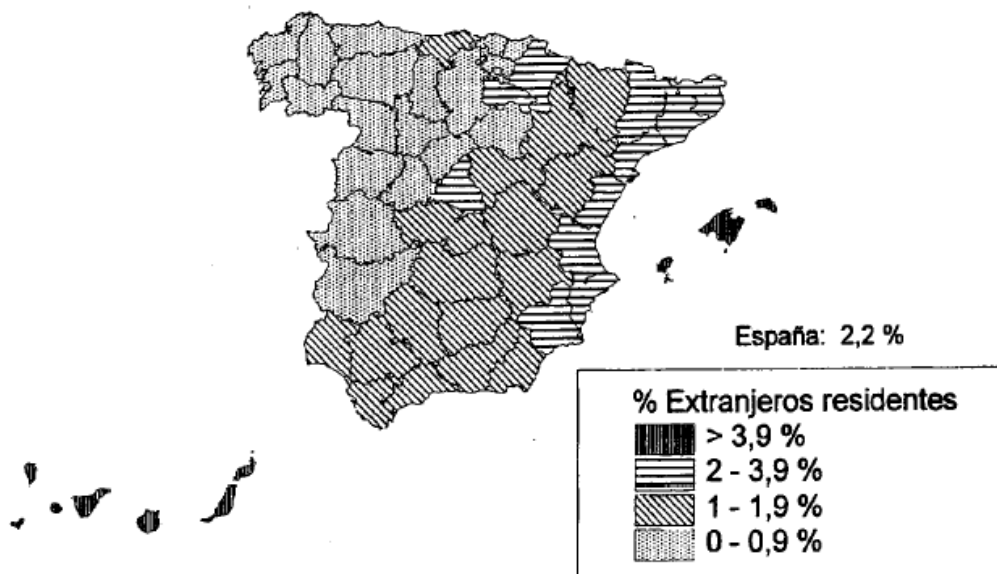
*Puntuación máxima: 2,5 puntos.*



1.2. A la vista del mapa adjunto, sobre el “*Porcentaje de extranjeros residentes 2000*”, indique las provincias con índices iguales o superiores al 2%, así como las principales razones que explican esa localización.

*Puntuación máxima: 2 puntos*

Porcentaje de extranjeros residentes respecto a la población residente.



A la vista del mapa adjunto, “*Provincias con una tasa de paro superior al 10,5%, en 2006*”, indique el nombre de las provincias “*tramadas*” pertenecientes a dicha categoría; señale las razones que explican esta distribución y comente algunas consecuencias emanadas de este hecho.

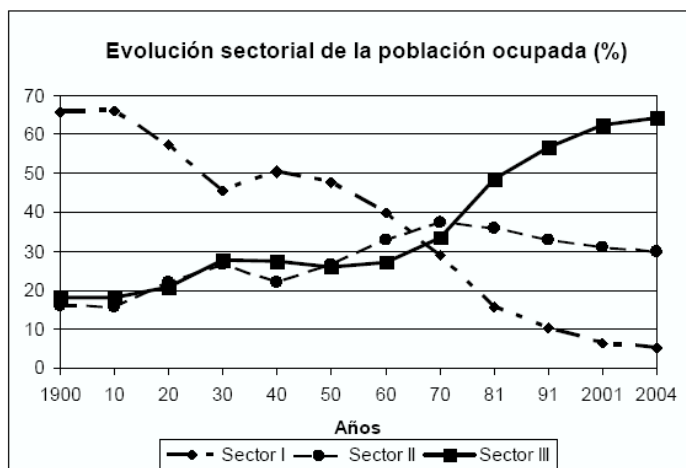
*Puntuación máxima: 2 puntos.*



Comente el gráfico adjunto, “Evolución sectorial de la población ocupada.1900-2004”, atendiendo al menos a los siguientes aspectos:

- Aspectos más significativos de esta evolución.
- Factores explicativos.

Puntuación máxima: 2,5 puntos.



Tema: “*La distribución espacial de la población en España*”.

Desarrolle, de manera sintética, el tema propuesto (utilice, como máximo, ambas caras de un folio), atendiendo al menos a los siguientes aspectos:

- Principales caracteres de la distribución espacial de la población.
- Áreas de alta densidad y áreas semidespobladas.
- Causas que explican esta distribución.
- Consecuencias que se derivan de la misma.

Puntuación máxima: 4 puntos.

Tema: “*Los movimientos migratorios exteriores en España*”.

Desarrolle, de manera sintética, el tema propuesto (utilice, como máximo, ambas caras de un folio), atendiendo al menos a:

- Evolución histórica.
- Factores que los explican.
- Consecuencias y cambios recientes.

Puntuación máxima: 4 puntos.

Tema: “*La estructura demográfica de la población española*”.

Desarrolle, de manera sintética, el tema propuesto (utilice, como máximo, ambas caras de un folio), atendiendo, al menos, a los siguientes puntos:

- Evolución histórica y situación actual.
- Factores que han incidido en el proceso de cambio.
- Consecuencias demográficas y socioeconómicas.
- El futuro de la población española.

Puntuación máxima: 4 puntos