

UNIDAD 4. LA PLURALIDAD DE LOS ESPACIOS RURALES Y LOS ESPACIOS PESQUEROS.

4ª Parte

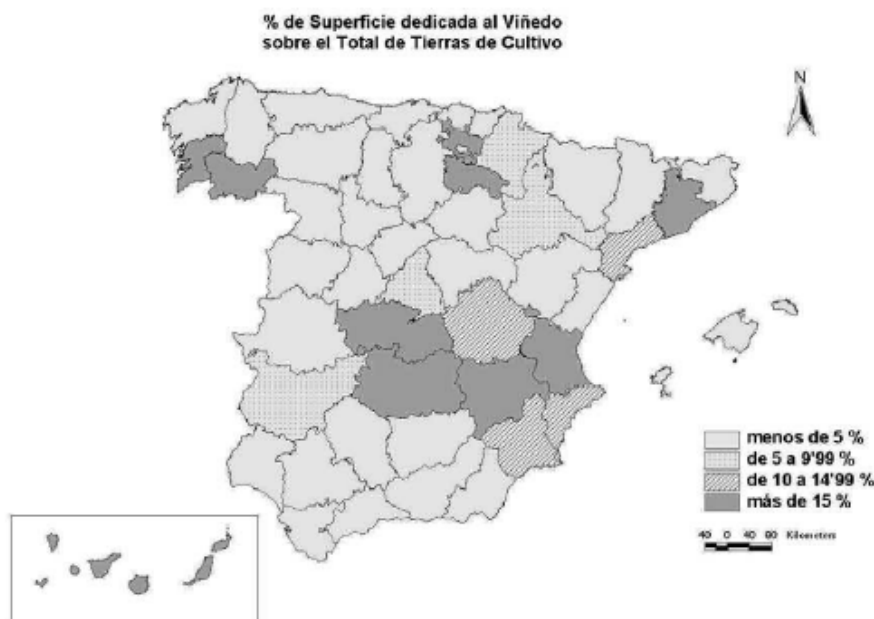
A la vista del mapa adjunto, “*Provincias con más del 30% de tierras de regadío sobre el total de las tierras labradas*”, indique el nombre de las provincias “*tramadas*”, pertenecientes a dicha categoría señale las razones que explican esta distribución y comente algunas consecuencias emanadas de este hecho.

Puntuación máxima: 2 puntos.



1.2. A la vista del mapa adjunto, “*Superficie dedicada al viñedo en 2001 sobre el total de tierras de cultivo (%)*”, indique las provincias que tienen más del 15% de las tierras de cultivo dedicadas al viñedo y comente las razones que explican esta distribución.

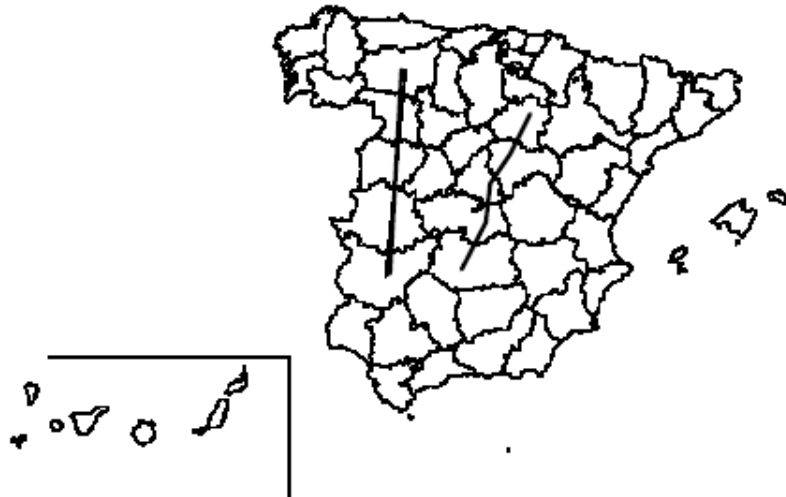
Puntuación máxima: 2 puntos.



4ª Parte

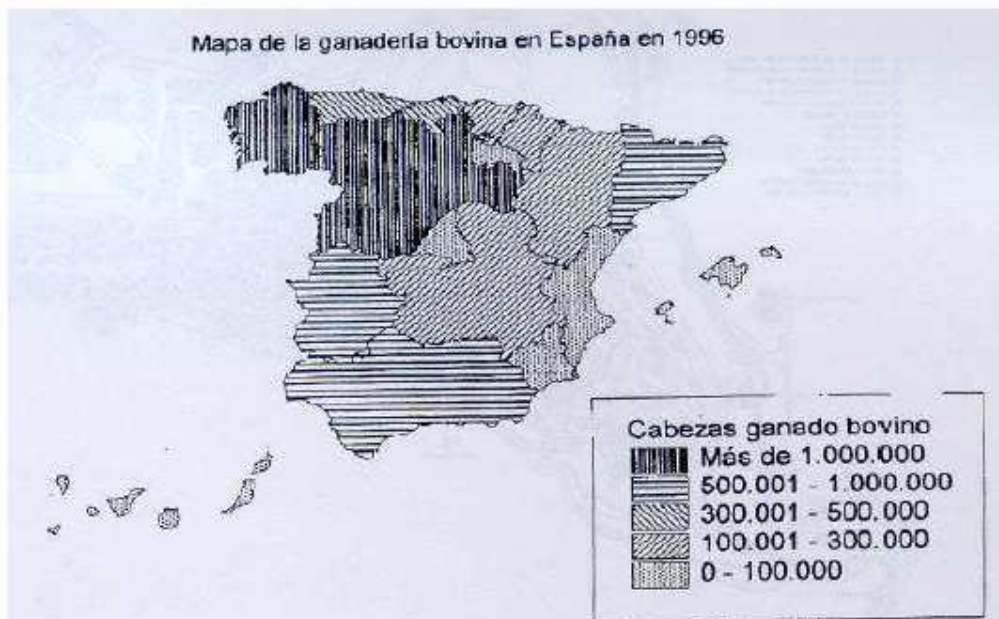
A la vista del mapa adjunto, "*Provincias recorridas por las vías pecuarias de La Plata y Soriana Oriental*", señale dichas provincias (marcadas por los dos "transectos") y la importancia histórica y actual de las mismas.

Puntuación máxima: 2 puntos.



1.2. A la vista del "Mapa de la ganadería bovina en España en 1996" señale cuáles son las Comunidades Autónomas que poseen más de 300.000 cabezas. Formule una explicación coherente de esta ocalización en las tres Comunidades Autónomas situadas en la Cornisa Cantábrica.

Puntuación máxima: 2 puntos.



2ª Parte

Tema: *“El poblamiento rural”*.

Desarrolle, de manera sintética, el tema propuesto (utilice, como máximo, ambas caras de un folio).

Como indicativos se señalan los siguientes epígrafes:

- Tipologías del poblamiento rural.
- Cambios y transformaciones.
- El hábitat rural.
- El impacto ambiental del poblamiento rural.

Puntuación máxima: 4 puntos

2ª Parte

Tema: *Los paisajes agrarios en la España peninsular.*

Desarrolle, de forma sintética, el tema propuesto (utilice como máximo ambas caras de un folio) atendiendo al menos a los siguientes aspectos:

- Factores naturales y humanos que influyen en ellos.
- Tipos de paisajes.
- Localización.
- Aprovechamientos agropecuarios.

Puntuación máxima: 4 puntos.

3ª Parte

Comentario de la fotografía adjunta:

Comente el paisaje de la lámina adjunta, atendiendo, al menos, a:

- a) Usos del suelo.
- b) Condicionantes físicos que influyen en la configuración del paisaje.
- c) Cambios en los elementos del paisaje.

Puntuación máxima: 2,5 puntos.



3ª Parte

Comentario de la fotografía adjunta:

Comente el paisaje de la lámina adjunta, atendiendo, al menos, a:

- Unidades del paisaje. Haga especial hincapié en las transformaciones recientes del mismo.
- Cambios en los usos del suelo.
- Manifestaciones espaciales de las actividades económicas y del poblamiento.

Puntuación máxima: 2,5 puntos.



3ª Parte.

Comentario de la fotografía adjunta:

Realice un comentario de la imagen adjunta, atendiendo, al menos, a los siguientes aspectos:

- Principales elementos del paisaje.
- Aspectos del poblamiento.
- Actividades económicas.
- Factores que intervienen.

Puntuación máxima: 2,5 puntos.



3ª Parte

Comentario de la fotografía adjunta.

Comente el paisaje de la imagen adjunta, atendiendo, al menos, a:

- a) Principales unidades de paisaje.
- b) Usos del suelo.
- c) Caracteres del poblamiento.

Puntuación máxima: 2,5 puntos.



GEOGRAFÍA