

UNIDAD 7. LOS ESPACIOS DEL SECTOR SERVICIOS.

2ª Parte

Tema: “ *El turismo en España*”.

Desarrolle -de manera sintética- el tema propuesto (utilice, como máximo, ambas caras de un folio), atendiendo al menos a los aspectos que se expresan a continuación del título.

- Riqueza y variedad de los recursos turísticos.
- La importancia del turismo de masas.
- La búsqueda del turismo de calidad.

2ª Parte

Tema: “*El sector servicios en España*”.

Desarrolle, de manera sintética, el tema propuesto (utilice, como máximo, ambas caras de un folio). Como indicativos se señalan los siguientes epígrafes:

- Caracterización general del sector servicios.
- Las etapas del desarrollo del sector.
- El significado y la importancia del mismo, en la actualidad.
- Implicaciones territoriales del sector servicios en nuestro país.

Tema: “*Los transportes terrestres en España*”.

Desarrolle, de manera sintética, el tema propuesto (utilice, como máximo, ambas caras de un folio), atendiendo, al menos, a los siguientes puntos:

- Condicionantes humanos y naturales de la red de transportes.
- Tipos de transporte.
- El papel del transporte en la actividad económica.
- Transformaciones recientes.

2ª Parte

Tema: “*Los espacios turísticos en España*”

Desarrolle de manera sintética el tema propuesto (utilice, como máximo, ambas caras de un folio), atendiendo al menos a los siguientes aspectos:

- Factores explicativos del desarrollo turístico español.
- Tipología de las regiones turísticas.
- Impacto espacial del turismo.

Comentario de los gráficos adjuntos:

Realice un comentario de los gráficos adjuntos, atendiendo a los siguientes aspectos:

- Evolución y distribución del turismo en España;
- Análisis de las posibles causas, y de sus consecuencias.

Puntuación máxima: 2,5 puntos

Gráfico n.1: "Evolución anual del número de turistas (en miles)"

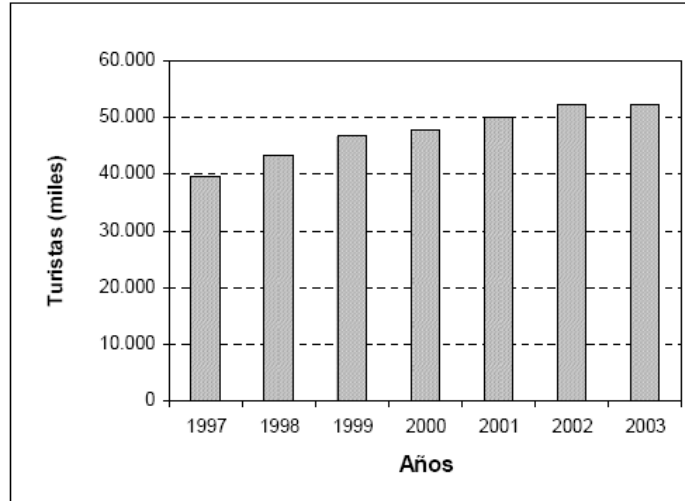
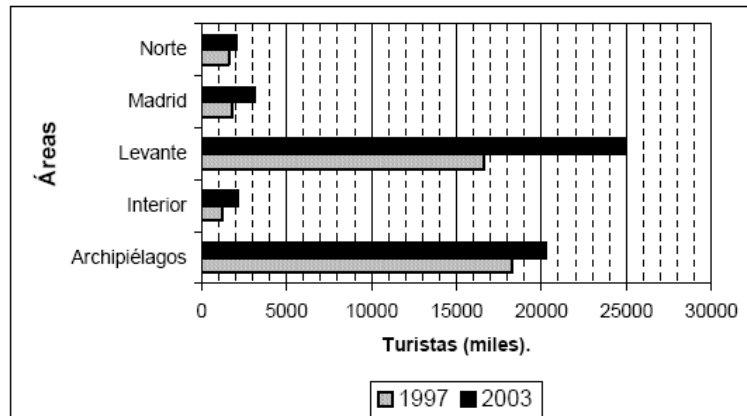


Gráfico n. 2: "Número de turistas según área de destino final (1997 / 2003)"

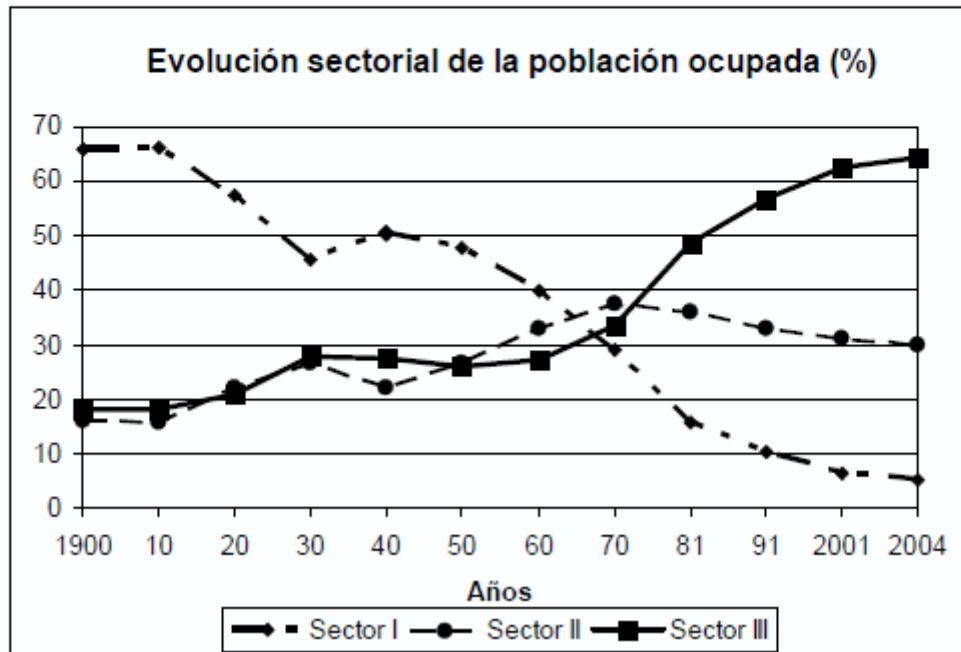


NOTA: Las áreas están conformadas por agregaciones de Comunidades Autónomas, excepción hecha de Madrid. El Levante lo integran: Cataluña, Comunidad Valenciana, Murcia y Andalucía.

Comente el gráfico adjunto, "Evolución sectorial de la población ocupada.1900-2004", atendiendo al menos a los siguientes aspectos:

- Aspectos más significativos de esta evolución.
- Factores explicativos.

Puntuación máxima: 2,5 puntos.



Comente la siguiente imagen haciendo referencia a los siguientes aspectos:

Unidades de paisaje

Cambios en los usos del suelo

Manifestaciones espaciales de las actividades económicas.

